



Light the Lamp of Knowledge
प्रज्वलितो ज्ञानमयः प्रदीपः

SARDAR PATEL INSTITUTE OF PUBLIC ADMINISTRATION



U.P.S.C. CIVIL SERVICES EXAMINATION TRAINING CENTRE

GENERAL STUDIES

DATE : 1 - 8 - 2010

TIME : 12.00 TO 2.00 P.M

DAY : SUNDAY

TOTAL MARKS : 150

READ THE FOLLOWING INSTRUCTIONS CAREFULLY

1. Please write Seat No., Category, Question Booklet Series and Subject on answer sheet (OMR Sheet) without fail.
2. Do not turn the page till you are instructed to do so.
3. Each question carries one mark. Wrong answer or more than one answer in one question will carry 33% negative marking.
4. You have to mark (●) the right alternative (a or b or c or d) for each question in the answer sheet with **HB Pencil**.
5. Rough work, if any, be done on the last blank page of Question Paper.
6. In case of confusion in Gujarati Question, rely on English Question. English text will be final.



- 1 'Beijing platform' is related with...
- (a) Bio-diversity (b) Russia-China-India economic co-operation.
(c) Women empowerment (d) Nuclear disarmament

બેજિંગ પ્લેટફોર્મ ચીનાથી સંબંધિત છે કે

- (a) જૈવ વિવિધતા (b) રુસ-ચીન-ભારત આર્થિક સહયોગ
(c) મહિલા સ્ત્રીકલિકરણ (d) પરમાણુ વિ:શસ્ત્રીકરણ.

- 2 Which of the following is/are true?
1. Nuclear bomb is based on the process of Nuclear fusion.
2. Hydrogen bomb is based on the process of Nuclear fission.
- (a) Only 1 (b) Only 2 (c) Both 1 & 2 (d) None

નીચેનામાંથી કયું/ કયા કથન સત્ય છે?

૧. પરમાણુ બોમ્બ પરમાણુ સંલયન(Fusion)ની પ્રક્રિયા પર આધારિત છે.
૨. હાઇડ્રોજન બોમ્બ પરમાણુ વિખંડન (Fission) ની પ્રક્રિયા પર આધારિત છે.

- (a) ફક્ત-૧ (b) ફક્ત ૨ (c) ૧ તથા ૨ (d) બંનેમાંથી એકપણ નહિ

- 3 Match the following :

Harappan Sites

(A) Ropar

(B) Lothal

(C) Manda

(D) Alamgirpur

A B C D

(a) 3 1 2 4

(c) 4 1 2 3

River Coast

(1) Bhogavo

(2) Chenab

(3) Sutlej

(4) Hindon

A B C D

(b) 2 4 3 1

(d) 3 1 4 2

સૂચિ-૧ અને સૂચિ-૨ સાથે સુમેલિત કરો.

(હડપ્પા સ્થળ)

A. રોપર

B. લોથલ

C. માંડા

D. આલમગીરપુર

A.

(a) 3

(b) ૨

(c) ૪

(d) ૩

B.

૧

૪

૧

૧

(નદી કિનારો)

૧. ભોગવો.

૨. ચિનાબ

૩. સુતલેજ

૪. હિન્ડન

C.

૨

૩

૨

૪

D.

૪

૧

૩

૨

- 4 'Chinaman' refers to...

(a) leg spin by a right hand bowler

(b) off spin by a right hand bowler

(c) leg spin by a left hand bowler

(d) off spin by a left hand bowler

ચાઇનામેન એટલે

(a) જમણેરી બોલરે નાખેલ લેગસ્પીન બોલ.

(b) જમણેરી બોલરે નાખેલ ઓફસ્પીન બોલ.

(c) ડાબેરી બોલરે નાખેલ લેગસ્પીન બોલ.

(d) ડાબેરી બોલરે નાખેલ ઓફસ્પીન બોલ.

- 5 To see the image above the water surface, which instrument is used in a submarine?

(a) Telescope (b) Kaleidoscope (c) Periscope (d) Horoscope

પાણીની ઉપરનું દ્રશ્ય જોવા માટે પન્ડુબ્લીમાં કયા સાધનનો ઉપયોગ થાય છે?

(a) ટેલિસ્કોપ (b) કેલિડોસ્કોપ (c) પેરિસ્કોપ (d) હોરોસ્કોપ



6	<p>Which of the following statements are Not Correct?</p> <p>(1) Vedas were compiled by Krishna Dwaipayana Vyas. (2) Some of the mantras of Rigveda's fourth mandal were created by three kings. (3) 'Nadi Sukt' is mentioned in the seventh mandal of Rigveda. (4) Education system finds mention in the 'Manduk Sukt' of Rigveda's tenth mandal.</p> <p>(a) 1, 2 (b) 2, 3 (c) 3, 4 (d) 1, 4</p> <p>નીચેનામાંથી કયા કથન અસત્ય છે ?</p> <p>૧) વેદોના સંકલનકર્તા કૃષ્ણ દ્વૈપાયન વ્યાસ હતા. ૨) ઋગ્વેદના ચતુર્થ મંડલના કેટલાક મંત્રોની રચના ત્રણ રાજાઓએ કરેલી છે. ૩) ઋગ્વેદના સાતમા મંડલમાં નદી સુક્ત છે. ૪) ઋગ્વેદના દસમા મંડલના મંદૂક સુક્તમાં શિક્ષણ પદ્ધતિનો ઉલ્લેખ છે.</p> <p>(a) ૧,૨ (b) ૨,૩ (c) ૩,૪ (d) ૧,૪</p>
7	<p>Vandana shiva is associated with...</p> <p>(a) feminist movement (b) tribal welfare (c) environment protection (d) journalism</p> <p>વંદના શિવા કયા ક્ષેત્ર સાથે સંકળાયેલા છે ?</p> <p>(a) નારીવાદી ચળવળ (b) આદિવાસી કલ્યાણ (c) પર્યાવરણ સંરક્ષણ (d) પત્રકારત્વ</p>
8	<p>Which of the following is/are correct?</p> <p>1. Jet engine uses atmospheric oxygen. 2. Rocket carries with itself gaseous oxygen as a fuel.</p> <p>(a) only 1 (b) only 2 (c) Both 1 & 2 (d) None</p> <p>નીચેનામાંથી કયું/ કયા કથન સત્ય છે?</p> <p>૧. જેટ એન્જિન ઓકિસજન આપૂર્તિ માટે વાતાવરણમાંના વાયુનો પ્રયોગ કરે છે. ૨. રોકેટ પોતાની ઓકિસજન આપૂર્તિ ગેસના રૂપમાં ઇંધણ સ્વરૂપે મેળવે છે.</p> <p>(a) ફક્ત-૧ (b) ફક્ત ૨ (c) ૧ તથા ૨ (d) બંનેમાંથી એકપણ નહિ</p>
9	<p>Which of the following creations of Kalidas are placed amongst the best epics of Sanskrit literature?</p> <p>(a) Rutasamhar (b) Meghdoot (c) Raghuvansham (d) Abhigyan Shakuntalam</p> <p>નીચેનામાંથી કાલીદાસ રચિત કયો ગ્રંથ સંસ્કૃત સાહિત્યના શ્રેષ્ઠ મહાકાવ્યોમાં સ્થાન ધરાવે છે?</p> <p>(a) ઋતુસંહાર (b) મેઘદૂત (c) રઘુવંશમ્ (d) અભિજ્ઞાન શાકુંતલમ્</p>
10	<p>UN has declared the year 2010 as...</p> <p>(a) International year of Astronomy (b) International year of Bio-diversity (c) International literacy year. (d) International year of mathematics</p> <p>સંયુક્ત રાષ્ટ્રસંઘ દ્વારા વર્ષ-૨૦૧૦ને કયા વર્ષ તરીકે ઉજવવાનું નક્કી કરવામાં આવ્યું છે ?</p> <p>(a) આંતરરાષ્ટ્રીય ખગોળ વર્ષ. (b) આંતરરાષ્ટ્રીય જૈવ વિવિધતા વર્ષ. (c) આંતરરાષ્ટ્રીય સાક્ષરતા વર્ષ. (d) આંતરરાષ્ટ્રીય ગણિત વર્ષ.</p>
11	<p>The presence of which of the following hormones in women's urine indicates pregnancy?</p> <p>(a) Estrogen (b) Progesterone (c) HCG (d) Endosteron</p> <p>મહિલાઓના પેશાબમાં કયા અંતઃસ્ત્રાવની હાજરી ગર્ભાવસ્થા સૂચવે છે ?</p> <p>(a) એસ્ટ્રોજન (b) પ્રોજેસ્ટેરોન (c) એચ.સી.જી. (d) એન્ડોસ્ટેરોન</p>



12 Find the correct chronological order of the following saints.

- (a) Gurunanak - Tulsidas - Ramdas - Tukaram
 (b) Tulsidas - Gurunanak - Tukaram - Ramdas
 (c) Gurunanak - Tulsidas - Tukaram - Ramdas
 (d) Tulsidas - Gurunanak - Ramdas - Tukaram

નીચે આપેલા સંતોનો સાચો કાલાનુક્રમ કયો છે ?

- (a) ગુરુનાનક - તુલસીદાસ - રામદાસ - તુકારામ
 (b) તુલસીદાસ - ગુરુનાનક - તુકારામ - રામદાસ
 (c) ગુરુનાનક - તુલસીદાસ - તુકારામ - રામદાસ
 (d) તુલસીદાસ - ગુરુનાનક - રામદાસ - તુકારામ

13 'Bhitarkanika' world heritage site is located in...

- (a) Odisha (b) Andhrapradesh (c) Madhyapradesh (d) Karnataka

વિશ્વ ધરોહર તરીકે પસંદગી પામનાર ભીતરકણિકા કયા રાજ્યમાં સ્થિત છે ?

- (a) ઉડિસા (b) આન્ધ્રપ્રદેશ (c) મધ્યપ્રદેશ (d) કર્ણાટક

14 Match the following :

List - I

- A. Apiculture
 B. Sericulture
 C. Floriculture
 D. Horticulture

List - II

1. Honey production
 2. Silk production
 3. Vegetables production
 4. Flower production

- | | | | | | | | | | |
|-----|---|---|---|---|-----|---|---|---|---|
| | A | B | C | D | | A | B | C | D |
| (a) | 1 | 2 | 4 | 3 | (b) | 2 | 1 | 4 | 3 |
| (c) | 1 | 2 | 3 | 4 | (d) | 2 | 1 | 3 | 4 |

સૂચિ-૧ ને સૂચિ-૨ સાથે જોડો.

(સૂચિ-૧)

- A. એપી કલ્ચર
 B. સેરી કલ્ચર
 C. ફ્લોરી કલ્ચર
 D. હોર્ટી કલ્ચર

(સૂચિ-૨)

૧. મધ ઉત્પાદન
 ૨. રેશમ ઉત્પાદન
 ૩. શાકભાજી ઉત્પાદન
 ૪. ફૂલ ઉત્પાદન

- | | | | | |
|-----|----|----|----|----|
| | A. | B. | C. | D. |
| (a) | ૧ | ૨ | ૪ | ૩ |
| (b) | ૨ | ૧ | ૪ | ૩ |
| (c) | ૧ | ૨ | ૩ | ૪ |
| (d) | ૨ | ૧ | ૩ | ૪ |

15 Jaunpur city was founded in the memory of...

- (a) Balban (b) Mahommed-bin-Tughlaq (c) Firozshah Tughlaq (d) Sikander Iodi

નીચેનામાંથી કયા શાસકની યાદમાં જૌનપુર નગરની સ્થાપના કરવામાં આવી હતી ?

- (a) બલબન (b) મોહમ્મદ-બિન-તુગ્લાક (c) ફિરોજશાહ તુગ્લાક (d) સિકંદર લોદી

16 Which of the following is declared as 'National aquatic animal'?

- (a) Dolphin (b) Ghariyal (c) Shrimps (d) Shark

કયા જલીય જીવને 'રાષ્ટ્રીય જલીય જીવ' ઘોષિત કરવામાં આવ્યું છે ?

- (a) ડોલ્ફિન (b) ઘડિયાલ (c) ક્રિગા (d) શાર્ક



17	Which ministry handles the schemes related to Bio-diesel production from 'Jathropa'?																								
	(a) Agriculture Ministry (b) Rural Development Ministry (c) Petroleum Ministry (d) Renewable energy Ministry જઠરોપા (જાથરોપા)માંથી બાયોડિઝેલના ઉત્પાદન સંદર્ભની યોજનાઓ કયું મંત્રાલય સંભાળે છે ?																								
	(a) કૃષિ મંત્રાલય (b) ગ્રામિણ વિકાસ મંત્રાલય (c) પેટ્રોલિયમ મંત્રાલય (d) નિવન પરંપરાગત ઊર્જા મંત્રાલય																								
18	Which port was known as 'BABULMAKKA' in the Mughal period?																								
	(a) Calicut (b) Bharuch (c) Khambhat (d) Surat મુગલ કાળમાં કયું બંદર બાબુલ મક્કા તરીકે ઓળખાતું હતું ?																								
	(a) કાલીકટ (b) ભરૂચ (c) ખંભાત (d) સુરત																								
19	'Creek Crocodile' created by BSF aims at...																								
	(a) providing security in Naxal affected areas. (b) checking infiltration on J & K border. (c) checking infiltration at kachchh sea border. (d) providing security against N-E militancy.																								
	બી.એસ.એફ. દ્વારા ગઠિત 'ક્રિક ક્રોકોડાઇલ' ના ગઠનનો ઉદ્દેશ્ય શું છે ?																								
	(a) નક્કસત પ્રભાવિત ક્ષેત્રોમાં સુરક્ષા. (b) જમ્મુ-કાશ્મિર સીમા પર સંભવિત આતંકવાદી ઘૂસપેઠ રોકવી. (c) કચ્છ દરિયાકાંઠા સીમા પર સંભવિત આતંકવાદી ઘૂસપેઠ રોકવી. (d) પૂર્વોત્તરમાં ઉગ્રવાદ પ્રભાવિત ક્ષેત્રોની સુરક્ષા.																								
20	Which regions of India are included in the list of world's prime environmental hotspots?																								
	1. Eastern Himalaya 2. Western Ghats 3. Andaman Nicobar																								
	(a) 1, 2 (b) 1, 3 (c) 2, 3 (d) 1, 2, 3 વિશ્વની પ્રમુખ પર્યાવરણીય તપ્ત ભૂમિઓ (હોટસ્પોટ્સ)માં ભારતના કયા ક્ષેત્રોનો સમાવેશ થાય છે ?																								
	૧. પૂર્વી હિમાલય ૨. પશ્ચિમ ઘાટ ૩. અંદામાન-નિકોબાર																								
	(a) ૧,૨ (b) ૧,૩ (c) ૨,૩ (d) ૧,૨,૩																								
21	Match the following:																								
	<table border="0"> <tr> <th colspan="4">Writer</th> <th colspan="4">Text</th> </tr> <tr> <td>A.</td> <td>Nizamuddin Ahmed</td> <td>1.</td> <td>Muntkhab-ut-Tawarikh</td> </tr> <tr> <td>B.</td> <td>Ahmed Yadgar</td> <td>2.</td> <td>Tarikh-e-shahi</td> </tr> <tr> <td>C.</td> <td>Badayuni</td> <td>3.</td> <td>Iqbalnama</td> </tr> <tr> <td>D.</td> <td>Motmid khan</td> <td>4.</td> <td>Tabqat-e-Akbari</td> </tr> </table>	Writer				Text				A.	Nizamuddin Ahmed	1.	Muntkhab-ut-Tawarikh	B.	Ahmed Yadgar	2.	Tarikh-e-shahi	C.	Badayuni	3.	Iqbalnama	D.	Motmid khan	4.	Tabqat-e-Akbari
Writer				Text																					
A.	Nizamuddin Ahmed	1.	Muntkhab-ut-Tawarikh																						
B.	Ahmed Yadgar	2.	Tarikh-e-shahi																						
C.	Badayuni	3.	Iqbalnama																						
D.	Motmid khan	4.	Tabqat-e-Akbari																						
	<table border="0"> <tr> <td>(a)</td> <td>2</td> <td>4</td> <td>3</td> <td>1</td> </tr> <tr> <td>(c)</td> <td>4</td> <td>2</td> <td>1</td> <td>3</td> </tr> </table>	(a)	2	4	3	1	(c)	4	2	1	3														
(a)	2	4	3	1																					
(c)	4	2	1	3																					
	સુચિ-૧ ને સુચિ-૨ સાથે જોડો.																								
	<table border="0"> <tr> <th colspan="2">(લેખક)</th> <th colspan="2">(કૃતિ)</th> </tr> <tr> <td>A.</td> <td>નિઝામુદ્દીન અહેમદ</td> <td>૧.</td> <td>મુન્તખાબ-ઉત-તવારીખ</td> </tr> <tr> <td>B.</td> <td>અહમદ યાદગાર</td> <td>૨.</td> <td>તારીખ-એ-શાહી</td> </tr> <tr> <td>C.</td> <td>બદાયુની</td> <td>૩.</td> <td>ઇકબાલનામા</td> </tr> <tr> <td>D.</td> <td>મોતમીદખાં</td> <td>૪.</td> <td>તાબકાત-એ-અકબરી</td> </tr> </table>	(લેખક)		(કૃતિ)		A.	નિઝામુદ્દીન અહેમદ	૧.	મુન્તખાબ-ઉત-તવારીખ	B.	અહમદ યાદગાર	૨.	તારીખ-એ-શાહી	C.	બદાયુની	૩.	ઇકબાલનામા	D.	મોતમીદખાં	૪.	તાબકાત-એ-અકબરી				
(લેખક)		(કૃતિ)																							
A.	નિઝામુદ્દીન અહેમદ	૧.	મુન્તખાબ-ઉત-તવારીખ																						
B.	અહમદ યાદગાર	૨.	તારીખ-એ-શાહી																						
C.	બદાયુની	૩.	ઇકબાલનામા																						
D.	મોતમીદખાં	૪.	તાબકાત-એ-અકબરી																						
	<table border="0"> <tr> <td>(a)</td> <td>૨</td> <td>૪</td> <td>૩</td> <td>૧</td> </tr> <tr> <td>(b)</td> <td>૪</td> <td>૩</td> <td>૧</td> <td>૨</td> </tr> <tr> <td>(c)</td> <td>૪</td> <td>૨</td> <td>૧</td> <td>૩</td> </tr> <tr> <td>(d)</td> <td>૩</td> <td>૪</td> <td>૨</td> <td>૧</td> </tr> </table>	(a)	૨	૪	૩	૧	(b)	૪	૩	૧	૨	(c)	૪	૨	૧	૩	(d)	૩	૪	૨	૧				
(a)	૨	૪	૩	૧																					
(b)	૪	૩	૧	૨																					
(c)	૪	૨	૧	૩																					
(d)	૩	૪	૨	૧																					



22	<p>With regard to Commonwealth, which of the following is / are true?</p> <p>1. Commonwealth is an organization of former British colonies only. 2. Rwanda and Mozambique are Commonwealth members despite not being British colonies.</p> <p>(a) only 1 (b) only 2 (c) Both 1 & 2 (d) none</p> <p>કોમનવેલ્થના સંદર્ભમાં નીચેનામાંથી કયું / કયા કથન સત્ય છે ?</p> <p>૧. કોમનવેલ્થ એ માત્ર બ્રિટિશ ઉપનિવેશ રહી ચૂકેલા દેશોનું સંગઠન છે. ૨. રવાન્ડા અને મોઝામ્બિક બ્રિટિશ ઉપનિવેશ ન હોવા છતાં કોમનવેલ્થના સભ્યો છે.</p> <p>(a) ફક્ત ૧ (b) ફક્ત ૨ (c) ૧ તથા ૨ બંને (d) બંનેમાંથી કોઈપણ નહિ</p>
23	<p>Which of the following international treaties was put in place to address the problem of Ozone depletion?</p> <p>(a) Cartagena Protocol (b) Kyoto protocol (c) Montreal protocol (d) Ramsar convention</p> <p>ઓઝોન સ્તરના ફરલાની સમસ્યાના હલ માટે કઈ આંતરરાષ્ટ્રીય સંધિ અમલમાં આવી?</p> <p>(a) કાર્ટાજેના પ્રોટોકોલ (b) ક્યોટો પ્રોટોકોલ (c) મોન્ટ્રીયલ પ્રોટોકોલ (d) રામ્સર સંધિ</p>
24	<p>Which of the following is/are correct?</p> <p>1) Akbar's finance minister Todarnal was first there in the court of Shershah. 2) Todarnal implemented the 'Dahsala System' first in Gujarat.</p> <p>(a) Only 1 (b) Only 2 (c) Both 1 & 2 (d) None</p> <p>નીચેનામાંથી કયું/ કયા કથન સત્ય છે ?</p> <p>૧. અકબરનો વિભાગી ટોડરમલ પહેલા શેરશાહના દરબારમાં હતો. ૨. ટોડરમલે દહસાલા પદ્ધતિનો સૌ પ્રથમ અમલ ગુજરાતમાં કર્યો હતો.</p> <p>(a) ફક્ત-૧ (b) ફક્ત ૨ (c) ૧ તથા ૨ (d) બંનેમાંથી એકપણ નહિ</p>
25	<p>Malvinas island is a disputed territory between...</p> <p>(a) Britain - Argentina (b) Germany - Poland (c) Venezuela - Columbia (d) Israel - Jordan</p> <p>માલ્વીનાસ દ્વીપ કયા બે દેશો વચ્ચે વિવાદીત ક્ષેત્ર છે ?</p> <p>(a) બ્રિટન-આર્જેન્ટિના (b) જર્મની-પોલેન્ડ (c) વેનેઝુએલા-કોલંબિયા (d) ઇઝરાયેલ-જોર્ડન</p>
26	<p>What is 'IREDA'?</p> <p>(a) Insurance Regulatory and Development Agency. (b) Renewable energy development agency. (c) International cellular network. (d) Indian Rural Employment Development Agency.</p> <p>ઈરેડા (IREDA) શું છે?</p> <p>(a) વીમા નિયામક તથા વિકાસ એજન્સી. (b) જિન પરંપરાગત ઊર્જા વિકાસ એજન્સી. (c) આંતરરાષ્ટ્રીય સેલ્યુલર નેટવર્ક. (d) ભારતીય ગ્રામીણ રોજગાર વિકાસ એજન્સી.</p>
27	<p>Which of the following is Not Correct?</p> <p>(a) Buland Darwaja of Fatehpur sikri was built by Akbar to commemorate his victory over Gujarat. (b) 'Bibi Ka Makbara' situated in Aurangabad is a replica of Tajmahal. (c) Badshahi mosque situated in Lahore is the largest mosque built during Mughal period. (d) The Persian words, 'If there is a heaven on the earth, it is here only' are engraved on the arc of Tajmahal.</p> <p>નીચેનામાંથી કયું કથન અસત્ય છે ?</p> <p>(a) ફત્તેપુર સિક્રી સ્થિત બુલંદ દરવાજાનું નિર્માણ અકબર દ્વારા ગુજરાત વિજયની યાદમાં કરવામાં આવ્યું હતું. (b) ઔરંગાબાદ સ્થિત 'બીબીકા મકબરા' તાજમહાલની પ્રતિકૃતિ છે. (c) લાહોર સ્થિત બાદશાહી મસ્જિદ મુગલકાળમાં નિર્મિત સૌથી વિશાળ મસ્જિદ છે. (d) તાજમહાલના મહેરાન પર ફારસીમાં લખેલ છે કે, "પૃથ્વી પર જો કયાંય સ્વર્ગ છે તો તે અહીં જ છે."</p>



28	<p>Which public sector companies have been granted the status of 'Maharatna'?</p> <p>1. ONGC 2. BHEL 3. NTPC 4. SAIL.</p> <p>(a) 1, 2, 3 (b) 1, 2, 4 (c) 1, 3, 4 (d) 1, 2, 3, 4</p> <p>કય સાર્વજનિક ક્ષેત્રની કંપનીઓને મહારત્નો દરજ્જો આપવાનું નક્કી કરવામાં આવ્યું છે ?</p> <p>૧. ઓ.એન.જી.સી. ૨. બી.એલ.ઇ.એલ. ૩. એન.ટી.પી.સી. ૪. એસ.એ.આઇ.એલ.</p> <p>(a) ૧,૨,૩ (b) ૧,૨,૪ (c) ૧,૩,૪ (d) ૧,૨,૩,૪</p>																																																
29	<p>What is the full form of 'SIM' in mobile?</p> <p>(a) Satellite Identity Module (b) Silicon Identity Module (c) Satellite Identity Mechanism (d) Subscriber Identity Module</p> <p>મોબાઇલ ફોનમાં વપરાતા SIM નું પૂર્ણ નામ શું છે?</p> <p>(a) સેટેલાઇટ આઇડેન્ટિટી મોડ્યુલ. (b) સિલીકોન આઇડેન્ટિટી મોડ્યુલ. (c) સેટેલાઇટ આઇડેન્ટિટી મિકેનિઝમ. (d) સબસ્ક્રાઇબર આઇડેન્ટિટી મોડ્યુલ.</p>																																																
30	<p>Match the following:</p> <table border="0"> <tr> <td colspan="4"><u>Institution</u></td> <td colspan="4"><u>Founder</u></td> </tr> <tr> <td>A.</td><td>B.</td><td>C.</td><td>D.</td> <td>1.</td><td>2.</td><td>3.</td><td>4.</td> </tr> <tr> <td>Manavdharma Sabha</td><td>Tattvabodhini Sabha</td><td>Arya Samaj</td><td>Prarthna Samaj</td> <td>Durgaram Manchharam</td><td>Devendranath Tagore</td><td>Dayananad Saraswati</td><td>Dadoba Pandurang</td> </tr> </table> <p>(a) 2 1 4 3 (b) 1 2 3 4 (c) 4 3 2 1 (d) 4 2 3 1</p> <p>સૂચિ-૧ અને સૂચિ-૨ સાથે સુમેલિત કરો.</p> <table border="0"> <tr> <td colspan="4">(સંસ્થા)</td> <td colspan="4">(સ્થાપક)</td> </tr> <tr> <td>A.</td><td>B.</td><td>C.</td><td>D.</td> <td>૧.</td><td>૨.</td><td>૩.</td><td>૪.</td> </tr> <tr> <td>માનવધર્મ સભા</td><td>તત્ત્વબોધીની સભા</td><td>આર્ય સમાજ</td><td>પ્રાર્થના સમાજ</td> <td>દુર્ગારામ મંજારામ</td><td>દેવેન્દ્રનાથ ટાગોર</td><td>દયાનંદ સરસ્વતી</td><td>દાદોબા પાંડુરંગ</td> </tr> </table> <p>(a) ૨ ૧ ૪ ૩ (b) ૧ ૨ ૩ ૪ (c) ૪ ૩ ૨ ૧ (d) ૪ ૨ ૩ ૧</p>	<u>Institution</u>				<u>Founder</u>				A.	B.	C.	D.	1.	2.	3.	4.	Manavdharma Sabha	Tattvabodhini Sabha	Arya Samaj	Prarthna Samaj	Durgaram Manchharam	Devendranath Tagore	Dayananad Saraswati	Dadoba Pandurang	(સંસ્થા)				(સ્થાપક)				A.	B.	C.	D.	૧.	૨.	૩.	૪.	માનવધર્મ સભા	તત્ત્વબોધીની સભા	આર્ય સમાજ	પ્રાર્થના સમાજ	દુર્ગારામ મંજારામ	દેવેન્દ્રનાથ ટાગોર	દયાનંદ સરસ્વતી	દાદોબા પાંડુરંગ
<u>Institution</u>				<u>Founder</u>																																													
A.	B.	C.	D.	1.	2.	3.	4.																																										
Manavdharma Sabha	Tattvabodhini Sabha	Arya Samaj	Prarthna Samaj	Durgaram Manchharam	Devendranath Tagore	Dayananad Saraswati	Dadoba Pandurang																																										
(સંસ્થા)				(સ્થાપક)																																													
A.	B.	C.	D.	૧.	૨.	૩.	૪.																																										
માનવધર્મ સભા	તત્ત્વબોધીની સભા	આર્ય સમાજ	પ્રાર્થના સમાજ	દુર્ગારામ મંજારામ	દેવેન્દ્રનાથ ટાગોર	દયાનંદ સરસ્વતી	દાદોબા પાંડુરંગ																																										
31	<p>Which country has made broadband internet connection a legal right?</p> <p>(a) Finland (b) Norway (c) Sweden (d) Netherlands</p> <p>કયા દેશ દ્વારા બ્રોડબેન્ડ ઇન્ટરનેટને કાનૂની અધિકાર બનાવવામાં આવ્યો છે ?</p> <p>(a) ફિનલેન્ડ (b) નોર્વે (c) સ્વીડન (d) નેધરલેન્ડ</p>																																																
32	<p>Which of the following is Not correct?</p> <p>(a) Trishul is a short distance surface to Air missile. (b) Prithvi is a short distance surface to surface missile. (c) Agni is a surface to air intermediate range ballistic missile. (d) Nag is a surface to surface Anti-tank missile.</p> <p>નીચેનામાંથી કયું કથન અસત્ય છે ?</p> <p>(a) ત્રિશૂલ જમીનથી હવામાં પ્રહાર કરનાર ઓછા અંતરનું પ્રક્ષેપાસ્ત્ર છે. (b) પૃથ્વી જમીનથી જમીન પર પ્રહાર કરનાર ઓછા અંતરનું પ્રક્ષેપાસ્ત્ર છે. (c) અગ્નિ જમીનથી હવામાં પ્રહાર કરનાર ઇન્ટરમિડિએટ રેન્જ બેલિસ્ટિક પ્રક્ષેપાસ્ત્ર છે. (d) નાગ જમીનથી જમીન પર પ્રહાર કરનાર ટેન્કરોધી પ્રક્ષેપાસ્ત્ર છે.</p>																																																



33	The voting system in the general election of India is known as (a) Spoils system (b) First past the post system (c) Double ballot system (d) Electronic voting system ભારતની સામાન્ય ચૂંટણીની મતદાન પદ્ધતિને શું કહેવાય છે ? (a) સ્પોઇલ્સ સિસ્ટમ (b) ફર્સ્ટ પાસ ધ પોસ્ટ સિસ્ટમ. (c) ડબલ બેલોટ સિસ્ટમ. (d) ઇલેક્ટ્રોનિક વોટિંગ સિસ્ટમ.
34	With which of the following countries India has signed civil nuclear agreement for uranium supply? 1. Kazakhstan 2. Namibia 3. Argentina 4. Australia (a) 1, 2, 3 (b) 1, 2, 4 (c) 1, 3, 4 (d) 1, 2, 3, 4 ભારત દ્વારા કયા દેશો સાથે અણુનિક પરમાણુ કરાર સંબંધે યુરેનિયમ આપૂર્તિ પર સંમતિ સધાઈ છે ? ૧. કઝાખસ્તાન ૨. નામીબિયા ૩. આર્જેન્ટિના ૪. ઓસ્ટ્રેલિયા (a) ૧,૨,૩ (b) ૧,૨,૪ (c) ૧,૩,૪ (d) ૧,૨,૩,૪
35	Which of the following is / are correct in the context of cryogenic engine? 1. Cryogenic engine uses liquid hydrogen and liquid oxygen as fuel. 2. Cryogenic technology operates at high temperatures, which provides utmost thrust to the rocket. (a) only 1 (b) only 2 (c) Both 1 & 2 (d) none ક્રાયોજેનિક એન્જિનના સંદર્ભમાં કયું/ કયા કથન સત્ય છે ? ૧. ક્રાયોજેનિક એન્જિનમાં ઇંધણ તરીકે પ્રવાહી હાઇડ્રોજન તથા પ્રવાહી ઓક્સિજનનો ઉપયોગ થાય છે. ૨. ક્રાયોજેનિક એન્જિન ઊંચા તાપમાન આધારિત તકનિક છે, જે રોકેટને અત્યાધિક શક્તિ (થ્રસ્ટ) પ્રદાન કરે છે. (a) ફક્ત-૧ (b) ફક્ત ૨ (c) ૧ તથા ૨ બંને (d) બંનેમાંથી એકપણ નહિ
36	What is the correct sequence of increasing sex ratio of Indian states / UT? (a) Himachal Pradesh - Chandigarh - Assam - Bihar (b) Chandigarh - Bihar - Assam - Himachal Pradesh (c) Bihar - Assam - Himachal Pradesh - Chandigarh (d) Chandigarh - Himachal Pradesh - Assam - Bihar ભારતના રાજ્યો / યુ.ટી.ને વાકી દર (sex ratio)ના ચઠતાક્રમમાં ગોઠવતા નીચે પૈકી કયો ક્રમ સાચો છે ? (a) હિમાચલ પ્રદેશ - ચંડીગઢ - આસામ - બિહાર (b) ચંડીગઢ - બિહાર - આસામ - હિમાચલ પ્રદેશ (c) બિહાર - આસામ - હિમાચલ પ્રદેશ - ચંડીગઢ (d) ચંડીગઢ - હિમાચલ પ્રદેશ - આસામ - બિહાર
37	'1956 - Gentlemen's agreement' is related to ... (a) Orissa (b) Tamilnadu (c) Maharashtra (d) Andhrapradesh ૧૯૫૬નું 'જેન્ટલમેન્સ એગ્રીમેન્ટ' કયા રાજ્ય સાથે સંડોવાયેલું છે ? (a) ઓરિસ્સા (b) તમિલનાડુ (c) મહારાષ્ટ્ર (d) આન્ધ્રપ્રદેશ
38	Which epidemic is caused by H5N1 virus? (a) Swine flu (b) Avian flu (c) Influenza (d) Hepatitis H5N1 વાયરસથી કઈ મહામારી ફેલાય છે ? (a) સ્વાઇન ફ્લુ (b) અવિયન ફ્લુ (c) ઇન્ફ્લુએન્સા (d) હિપેટાઇટીસ



39	<p>Arrange the following in chronological order.</p> <ol style="list-style-type: none"> 1. Wavel plan 2. Rajgopalachari formula 3. Mountbatten plan 4. Cabinet mission plan <p>(a) 4 2 1 3 (b) 2 1 4 3 (c) 1 2 3 4 (d) 3 4 2 1</p> <p>નિમ્ન રીખિત ઘટનાક્રમને સાચા 'ક્રમક્રમ' પ્રમાણે ગોઠવો.</p> <ol style="list-style-type: none"> ૧) વેવલ યોજના. ૨) રાજગોપાલાચારી ફોર્મ્યુલા. ૩) માઉન્ટબેટન યોજના. ૪) કેબિનેટ મિશન યોજના. <p>(a) ૪,૨,૧,૩ (b) ૨,૧,૪,૩ (c) ૧,૨,૩,૪ (d) ૩,૪,૨,૧</p>
40	<p>Which one of the following countries has joined UN recently?</p> <p>(a) Macedonia (b) Tuvalu (c) Montenegro (d) Serbia</p> <p>નીચેનામાંથી કયો દેશ હાલમાં જ સંયુક્ત રાષ્ટ્રસંઘમાં જોડાયો ?</p> <p>(a) મેસેડોનિયા (b) તુવાલુ (c) મોન્ટેનિગ્રો (d) સર્બિયા</p>
41	<p>Which of the following is Not Correct?</p> <p>(a) Production of Rice, Wheat, Maize and Milk is targeted to be increased under the National Food Security Mission. (b) 'Success Scheme' is related to secondary education. (c) KGBV scheme is for the education of backward class girls. (d) Ujjwala scheme is for the welfare of people affected by human-trafficking.</p> <p>નીચેનામાંથી કયું કથન અસત્ય છે ?</p> <p>(a) રાષ્ટ્રીય ખાદ્ય સુરક્ષા મિશન અંતર્ગત ચોખા, ઘઉં, મકાઈ તથા દૂધ ઉત્પાદનમાં વૃદ્ધિ કરવાનું લક્ષ્ય રાખવામાં આવ્યું છે. (b) સફલતા યોજના માધ્યમિક શિક્ષણ સાથે સંબંધિત છે. (c) KGBV યોજના પછાત વર્ગની બાલિકાઓના શિક્ષણ માટે છે. (d) ઉજ્જવલા યોજના દેહ વ્યાપારથી પીડિત લોકોના કલ્યાણ અર્થે છે.</p>
42	<p>Which of the following is/are correct?</p> <ol style="list-style-type: none"> 1. To oppose untouchability, Gandhiji formed an All India League in 1932. 2. To campaign against untouchability, Gandhiji started publishing the newspaper 'Young India' in 1933. <p>(a) only 1 (b) only 2 (c) Both 1 & 2 (d) None</p> <p>નીચેના કથનોની સત્યતા ચકાસો.</p> <ol style="list-style-type: none"> ૧. અસ્પૃશ્યતાનો વિરોધ કરવા માટે ગાંધીજીએ ૧૯૩૨માં એક અખિલ ભારતીય અસ્પૃશ્યતા વિરોધી લીગનું ગઠન કર્યું. ૨. અસ્પૃશ્યતા વિરુદ્ધ અભિયાન હેતુ ગાંધીજીએ ૧૯૩૩માં 'યંગ ઇન્ડિયા' સમાચારપત્રનું પ્રકાશન શરૂ કર્યું. <p>(a) ફક્ત-૧ (b) ફક્ત ૨ (c) ૧ તથા ૨ (d) બંનેમાંથી એકપણ નહિ</p>
43	<p>Consider the following statements :</p> <ol style="list-style-type: none"> 1. 'Youth sat' is a joint satellite project of India and USA. 2. 'Glonass' is a joint project of India & Russia. <p>(a) 1 is correct (b) 2 is correct (c) Both are correct (d) None correct</p> <p>નીચેના વાક્યો તપાસ :-</p> <ol style="list-style-type: none"> ૧. 'યુથસેટ' એ ભારત અને અમેરિકાનો સંયુક્ત સેટેલાઈટ પ્રોજેક્ટ છે. ૨. 'ગ્લોનાસ' એ ભારત અને રશિયાનો સંયુક્ત પ્રોજેક્ટ છે. <p>(a) ફક્ત ૧ સાચું છે. (b) ફક્ત ૨ સાચું છે. (c) બંને સાચા છે. (d) બંનેમાંથી કોઈપણ સાચા નથી.</p>



44	<p>The Gross National Product of a country is equivalent to the market value of total goods and services produced in a year...</p> <p>(a) plus the market value of exports. (b) plus the market value of imports. (c) minus the foreign aid. (d) plus the net income from abroad.</p> <p>કોઈ એક દેશનું સકલ રાષ્ટ્રીય ઉત્પાદન (GNP) એક વર્ષમાં ઉત્પન્ન કરવામાં આવેલી સમસ્ત વસ્તુઓ તથા સેવાઓના બજાર મૂલ્ય.....</p> <p>(a) તથા નિકાસના બજાર મૂલ્યના સરવાળા બરાબર હોય છે. (b) તથા આયાતના બજાર મૂલ્યના સરવાળા બરાબર હોય છે. (c) માંથી વિદેશી સહાયતા ઘટાડતા પ્રાપ્ત થતી રાશિના બરાબર હોય છે. (d) તથા વિદેશોમાંથી પ્રાપ્ત શુદ્ધ આવકના સરવાળા બરાબર હોય છે.</p>
45	<p>'Tropic of Cancer' passes through which of the following states?</p> <p>1. Rajasthan 2. Chhattisgarh 3. Jharkhand 4. West Bengal</p> <p>(a) 1, 2, 3 (b) 2, 3, 4 (c) 1, 3, 4 (d) 1, 2, 3, 4</p> <p>નિમ્ન લિખિત કયા રાજ્યોમાંથી 'કર્કવૃત' પસાર થાય છે ?</p> <p>૧) રાજસ્થાન ૨) છત્તીસગઢ ૩) ઝારખંડ ૪) પ.બંગાળ</p> <p>(a) ૧,૨,૩ (b) ૨,૩,૪ (c) ૧,૩,૪ (d) ૧,૨,૩,૪</p>
46	<p>The parliament of which of the following countries has highest representation of women (in % terms)?</p> <p>(a) USA (b) Rwanda (c) South Africa (d) Nigeria</p> <p>નીચેનામાંથી કયા દેશની સંસદમાં સ્ત્રીઓનું પ્રતિનિધિત્વ (ટકાવારીમાં) સૌથી વધુ છે ?</p> <p>(a) અમેરિકા (b) રવાન્ડા (c) દક્ષિણ આફ્રિકા (d) નાઈજીરિયા</p>
47	<p>Which international agency is known as 'soft loan window' for poor countries?</p> <p>(a) International Development Agency. (b) International Monetary fund (c) World Bank (d) Asian Development Bank</p> <p>કઈ વૈશ્વિક સંસ્થા ગરીબ રાષ્ટ્રો માટે 'આસાન લોનની બારી તરીકે ઓળખાય' છે ?</p> <p>(a) આંતરરાષ્ટ્રીય વિકાસ એજન્સી (IDA) (b) આંતરરાષ્ટ્રીય મોનીટરી ફંડ (IMF) (c) વિશ્વ બેંક (WB) (d) એશિયન ડેવલપમેન્ટ બેંક (ADB)</p>
48	<p>Through which of the following rivers Equator passes twice?</p> <p>(a) Nile (b) Amazon (c) Congo (d) Niger</p> <p>નીચેનામાંથી કયું કયાંયે વીસી વાર વખતે એક્વેટર પસાર થાય છે ?</p> <p>(a) નાઇલ (b) એમેઝોન (c) કોંગો (d) નાઇજર</p>
49	<p>'Third world countries' refer to...</p> <p>(a) The capitalist countries (b) Countries neither in capitalist nor in socialist block. (c) Underdeveloped or least developed countries (d) Socialist countries</p> <p>'ત્રીજા વિશ્વના દેશો' એટલે</p> <p>(a) મૂડીવાદી દેશો. (b) જે મૂડી વાદી કે સમાજવાદી દેશોના જૂથમાં ન હોય તેવા. (c) અલ્પવિકસિત દેશો. (d) સમાજવાદી દેશો.</p>



50	<p>Which of the following is / are correct?</p> <p>1. No private person or organization can open an account in reserve bank. 2. Reserve bank issues all types of currency notes and coins.</p> <p>(a) only 1 (b) only 2 (c) Both 1 & 2 (d) none</p> <p>નીચેના વિકાલોમાંથી કયું/ કયા વિકાલ સત્ય છે ?</p> <p>૧. રિઝર્વ બેન્કમાં કોઈ પણ પ્રાઇવેટ વ્યક્તિ કે સંસ્થાનું ખાતું ખોલવામાં આવતું નથી. ૨. રિઝર્વ બેન્ક બધા જ પ્રકારની ચલણી નોટો તથા સિક્કાઓ બહાર પાડે છે.</p> <p>(a) ફક્ત-૧ (b) ફક્ત ૨ (c) ૧ તથા ૨ બંને (d) બંનેમાંથી એકપણ નહિ</p>
51	<p>Which of the following statements is / are true?</p> <p>1. Mount Godwin Austin K₂ is the highest peak located in the Greater Himalayan mountain range in India. 2. 'Kanchenjanga' in Himalayas, is the second highest mountain peak in India.</p> <p>(a) Only 1 (b) Only 2 (c) Both 1 & 2 (d) None</p> <p>નીચેના કથનોમાંથી કયું/ કયા કથન સત્ય છે ?</p> <p>૧. માઉન્ટ ગોડવિન ઓસ્ટિન K₂ બૃહદ્દિમાસ્ય પર્વત શ્રેણીમાં સ્થિત ભારતનું સૌથી ઊંચું પર્વત શીખર છે. ૨. હિમાલય શ્રેણી અંતર્ગત ભારતનું બીજું સૌથી ઊંચું પર્વત શીખર કાંચનજંઘા છે.</p> <p>(a) ફક્ત-૧ (b) ફક્ત ૨ (c) ૧ તથા ૨ (d) બંનેમાંથી એકપણ નહિ</p>
52	<p>Who among the following was the first Indian to win 'Booker Prize'?</p> <p>(a) Ravindranath Tagore (b) Kiran Desai (c) Arundhati Roy (d) Nirmla Deshpandey</p> <p>'બુકરપ્રાઇઝ' મેળવનાર પ્રથમ ભારતીય કોણ હતા ?</p> <p>(a) રવિન્દ્રનાથ ટાગોર (b) કિરણ દેસાઈ (c) અરૂંધતી રોય (d) નિર્મલા દેશપાન્ડે</p>
53	<p>'PURA' development model...</p> <p>(a) is related to urban development by providing basic facilities to urban poor. (b) is related to National development through infrastructure development. (c) is related to providing rural areas with urban facilities. (d) is related to overall development of the country under vision-2020</p> <p>'PURA' વિકાસ મોડેલ.....</p> <p>(a) શહેરી ગરીબોને બુનિયાદી સુવિધાઓની આપૂર્તિ દ્વારા શહેરી વિકાસ સંબંધે છે. (b) અધ્યારભૂત સંરચનાઓના વિકાસ દ્વારા દેશના વિકાસ સંબંધે છે. (c) ગ્રામીણ ક્ષેત્રોમાં શહેરી સુવિધાઓ ઉપલબ્ધ કરાવવા સંબંધે છે. (d) ઇન્ડિયા વિઝન-૨૦૨૦ અંતર્ગત દેશના સર્વાંગી વિકાસ સંબંધે છે.</p>
54	<p>Which of the following has cultural connotation?</p> <p>(a) State (b) Government (c) Nation (d) Territory</p> <p>નીચેનામાંથી કયું સંસ્કૃતિ સાથે સંકળાયેલ છે ?</p> <p>(a) રાજ્ય (b) સરકાર (c) રાષ્ટ્ર (d) પ્રદેશ</p>
55	<p>An Institute for the empowerment of women of NAM countries is set up at...</p> <p>(a) India (b) Cuba (c) Singapore (d) Malaysia</p> <p>'NAM' દેશોની સ્ત્રીઓના સશક્તિકરણ માટેની સંસ્થા કયાં સ્થાપવામાં આપેલી છે ?</p> <p>(a) ભારત (b) ક્યૂબા (c) સિંગાપોર (d) મલેશિયા</p>



56	<p>Which of the following is Not correct in the context of goals set by the 11th five year plan?</p> <p>(a) Annual 4% growth rate in Agriculture sector. (b) 5 % growth in sectors dependent on forest products. (c) To bring down the Total Fertility Rate to 1.5 (d) To reduce poverty by 10 %</p> <p>૧૧મી પંચવર્ષીય યોજનાના લક્ષ્યો માટે નીચેનામાંથી કયું અસત્ય છે ?</p> <p>(a) કૃષિ ક્ષેત્રમાં ૪ ટકા પ્રતિવર્ષ વિકાસ દર. (b) વનો અધીન ક્ષેત્રમાં ૫ ટકા વૃદ્ધિ. (c) સકલ પ્રજનન દર (Total fertility Rate) ૧.૫ સુધી લાવવો. (d) ગરીબી દરમાં ૧૦ ટકા સુધી કમિ લાવવી.</p>
57	<p>Which of the following Biosphere reserves of India are not recognized by UNESCO?</p> <p>(a) Nandadevi (b) Gulf of Munnar (c) Panchmadhi (d) Kanchenjunga</p> <p>ભારતના જૈવ મંડલીય આરક્ષિત ક્ષેત્રો પૈકી કયું 'યુનેસ્કો' દ્વારા માન્યતા પ્રાપ્ત નથી ?</p> <p>(a) નંદાદેવી (b) મજ્જારની ખાડી (c) પંચમઢી (d) કાંચનજંઘા</p>
58	<p>Which script is written from right to left?</p> <p>(a) Brahma (b) Devnagri (c) Sharda (d) Kharosthi</p> <p>કઈ લિપિ જમણેથી ડાબી તરફ લખાય છે ?</p> <p>(a) બ્રાહ્મી (b) દેવનાગરી (c) શારદા (d) ખરોષ્ઠી</p>
59	<p>The reasons for inflation are...</p> <p>1. Increase in the government expenditure 2. Hike in petroleum prices 3. Increase in Bank Rate</p> <p>(a) 1, 2 (b) 2, 3 (c) 1, 3 (d) 1, 2, 3</p> <p>મુદ્રાસ્થિતિ માટે જવાબદાર કારણોમાં નીચેનામાંથી કોનો સમાવેશ કરી શકાય ?</p> <p>૧. સરકારના ખરીવ્યયમાં વૃદ્ધિ. ૨. પેટ્રોલીયમ પદાર્થોના ભાવોમાં વૃદ્ધિ. ૩. બેંક દરમાં વૃદ્ધિ.</p> <p>(a) ૧,૨ (b) ૨,૩ (c) ૧,૩ (d) ૧,૨,૩</p>
60	<p>'Bermuda Triangle' is related to which of the following?</p> <p>1. South Florida 2. Puetorica 3. Hawaiian Islands</p> <p>(a) 1, 2, 3 (b) 1, 2 (c) 2, 3 (d) 1, 3</p> <p>બર્મુડા ત્રિકોણ નીચેના કયા સ્થાનોથી સંબંધિત છે ?</p> <p>૧) દક્ષિણ ફ્લોરિડા ૨) પ્યુટોરિકા ૩) હવાઈ દ્વિપ સમૂહ</p> <p>(a) ૧,૨,૩ (b) ૧,૨ (c) ૨,૩ (d) ૧,૩</p>
61	<p>Highest traffic handling port in India is (in thousand tones) :</p> <p>(a) Mumbai (b) Kochi (c) Vishakhapatnam (d) Chennai</p> <p>ભારતનું સૌથી વધુ ટ્રાફિક (હજાર ટનમાં) સંભાળતું બંદર કયું છે ?</p> <p>(a) મુંબઈ (b) કોચી (c) વિશાખાપટ્ટનમ (d) ચેન્નાઈ</p>



62	<p>Find the odd one out with respect to Indian parliament.</p> <p>(a) The president (b) Lok Sabha (c) Rajyasabha (d) Minister of parliamentary affairs</p> <p>ભારતીય સંસદના સંદર્ભમાં અલગ તરી આલતો ચિકલ્પ કયો છે ?</p> <p>(a) રાષ્ટ્રપતિ (b) લોકસભા (c) રાજ્યસભા (d) સંસદીય બાબતોના મંત્રી</p>																																																																	
63	<p>Find the 'INCORRECT' statement.</p> <p>(a) J & K is the only state of India which has a border with Afghanistan. (b) 'Indira Point' is located on the Great Nicobar island. (c) India has longest borderline with Pakistan. (d) 10 Degree channel is located between Andaman and Nicobar.</p> <p>નીચેના કથનોમાંથી અસ્તુ કથન શોધો.</p> <p>(a) જમ્મુ-કાશ્મીર એક માત્ર રાજ્ય છે, જે અફઘાનિસ્તાન સીમાને સ્પર્શે છે. (b) ઇંદિરા પોઇન્ટ ગ્રેટ નિકોબાર દ્વિપમાં સ્થિત છે. (c) ભારતની સર્વાધિક લાંબી સીમારેખા પાકિસ્તાન સાથે છે. (d) ૧૦° ચેનલ અંદામાન તથા નિકોબાર વચ્ચે સ્થિત છે.</p>																																																																	
64	<p>Farm land tends to erode more rapidly when planted with :</p> <p>(a) Sorghum (b) Potato (c) Wheat (d) Clove</p> <p>નીચેનામાંથી કયું વાલવાથી ખેતીની જમીન વધુ ઝડપે ઘસારો પામે છે ?</p> <p>(a) ઝાંસડીયો (b) બટેટા (c) ઘઉં (d) લલિંગ</p>																																																																	
65	<p>Which of the following refers to broad money?</p> <p>(a) M1 (b) M2 (c) M3 (d) M4</p> <p>નીચેનામાંથી કય મુદ્રા વિસ્તૃત મુદ્રા કહેવાય છે ?</p> <p>(a) M₁ (b) M₂ (c) M₃ (d) M₄</p>																																																																	
66	<p>Match the following :</p> <table border="0" style="width: 100%;"> <tr> <td style="text-align: center;"><u>List - I</u></td> <td style="text-align: center;"><u>List - II</u></td> </tr> <tr> <td>A. Troposphere</td> <td>1. Reflection of electro-magnetic rays.</td> </tr> <tr> <td>B. Stratosphere</td> <td>2. Absorption of Ultra-violet rays.</td> </tr> <tr> <td>C. Ozonosphere</td> <td>3. Horizontal flow of Air</td> </tr> <tr> <td>D. Ionosphere</td> <td>4. Decreasing rate of normal temperature.</td> </tr> </table> <table border="0" style="width: 100%;"> <tr> <td style="width: 50%; text-align: center;"> <table border="0" style="width: 100%;"> <tr> <td style="width: 25%;">A</td> <td style="width: 25%;">B</td> <td style="width: 25%;">C</td> <td style="width: 25%;">D</td> </tr> <tr> <td>(a) 1</td> <td>2</td> <td>3</td> <td>4</td> </tr> <tr> <td>(c) 4</td> <td>3</td> <td>2</td> <td>1</td> </tr> </table> </td> <td style="width: 50%; text-align: center;"> <table border="0" style="width: 100%;"> <tr> <td style="width: 25%;">A</td> <td style="width: 25%;">B</td> <td style="width: 25%;">C</td> <td style="width: 25%;">D</td> </tr> <tr> <td>(b) 4</td> <td>3</td> <td>1</td> <td>2</td> </tr> <tr> <td>(d) 2</td> <td>1</td> <td>3</td> <td>4</td> </tr> </table> </td> </tr> </table> <p>સૂચિ-૧ અને સૂચિ-૨ સાથે સુમેલિત કરી સાચો ઉત્તર મેળવો.</p> <table border="0" style="width: 100%;"> <tr> <td style="text-align: center;">: સૂચિ-૧ :</td> <td style="text-align: center;">: સૂચિ-૨ :</td> </tr> <tr> <td style="width: 50%;"> <p>A. ટ્રોપોમંડલ(Tropo) B. સમતપ મંડલ(Strato) C. ઓઝોન મંડલ D. આયન મંડલ</p> </td> <td style="width: 50%;"> <p>૧. વિદ્યુત ચુંબકીય કિરણોનું પરાવર્તન. ૨. પારજાંબલી કિરણોનું અવશોષણ. ૩. વાયુની સ્પૃશ્ય ધારાનો પ્રવાહ. ૪. સામાન્ય તાપમાનમાં ઠાસ દર.</p> </td> </tr> </table> <table border="0" style="width: 100%; margin-top: 20px;"> <tr> <td style="width: 150px;"></td> <td style="text-align: center;">A.</td> <td style="text-align: center;">B.</td> <td style="text-align: center;">C.</td> <td style="text-align: center;">D.</td> </tr> <tr> <td>(a)</td> <td style="text-align: center;">૧</td> <td style="text-align: center;">૨</td> <td style="text-align: center;">૩</td> <td style="text-align: center;">૪</td> </tr> <tr> <td>(b)</td> <td style="text-align: center;">૪</td> <td style="text-align: center;">૩</td> <td style="text-align: center;">૧</td> <td style="text-align: center;">૨</td> </tr> <tr> <td>(c)</td> <td style="text-align: center;">૪</td> <td style="text-align: center;">૩</td> <td style="text-align: center;">૨</td> <td style="text-align: center;">૧</td> </tr> <tr> <td>(d)</td> <td style="text-align: center;">૨</td> <td style="text-align: center;">૧</td> <td style="text-align: center;">૩</td> <td style="text-align: center;">૪</td> </tr> </table>	<u>List - I</u>	<u>List - II</u>	A. Troposphere	1. Reflection of electro-magnetic rays.	B. Stratosphere	2. Absorption of Ultra-violet rays.	C. Ozonosphere	3. Horizontal flow of Air	D. Ionosphere	4. Decreasing rate of normal temperature.	<table border="0" style="width: 100%;"> <tr> <td style="width: 25%;">A</td> <td style="width: 25%;">B</td> <td style="width: 25%;">C</td> <td style="width: 25%;">D</td> </tr> <tr> <td>(a) 1</td> <td>2</td> <td>3</td> <td>4</td> </tr> <tr> <td>(c) 4</td> <td>3</td> <td>2</td> <td>1</td> </tr> </table>	A	B	C	D	(a) 1	2	3	4	(c) 4	3	2	1	<table border="0" style="width: 100%;"> <tr> <td style="width: 25%;">A</td> <td style="width: 25%;">B</td> <td style="width: 25%;">C</td> <td style="width: 25%;">D</td> </tr> <tr> <td>(b) 4</td> <td>3</td> <td>1</td> <td>2</td> </tr> <tr> <td>(d) 2</td> <td>1</td> <td>3</td> <td>4</td> </tr> </table>	A	B	C	D	(b) 4	3	1	2	(d) 2	1	3	4	: સૂચિ-૧ :	: સૂચિ-૨ :	<p>A. ટ્રોપોમંડલ(Tropo) B. સમતપ મંડલ(Strato) C. ઓઝોન મંડલ D. આયન મંડલ</p>	<p>૧. વિદ્યુત ચુંબકીય કિરણોનું પરાવર્તન. ૨. પારજાંબલી કિરણોનું અવશોષણ. ૩. વાયુની સ્પૃશ્ય ધારાનો પ્રવાહ. ૪. સામાન્ય તાપમાનમાં ઠાસ દર.</p>		A.	B.	C.	D.	(a)	૧	૨	૩	૪	(b)	૪	૩	૧	૨	(c)	૪	૩	૨	૧	(d)	૨	૧	૩	૪
<u>List - I</u>	<u>List - II</u>																																																																	
A. Troposphere	1. Reflection of electro-magnetic rays.																																																																	
B. Stratosphere	2. Absorption of Ultra-violet rays.																																																																	
C. Ozonosphere	3. Horizontal flow of Air																																																																	
D. Ionosphere	4. Decreasing rate of normal temperature.																																																																	
<table border="0" style="width: 100%;"> <tr> <td style="width: 25%;">A</td> <td style="width: 25%;">B</td> <td style="width: 25%;">C</td> <td style="width: 25%;">D</td> </tr> <tr> <td>(a) 1</td> <td>2</td> <td>3</td> <td>4</td> </tr> <tr> <td>(c) 4</td> <td>3</td> <td>2</td> <td>1</td> </tr> </table>	A	B	C	D	(a) 1	2	3	4	(c) 4	3	2	1	<table border="0" style="width: 100%;"> <tr> <td style="width: 25%;">A</td> <td style="width: 25%;">B</td> <td style="width: 25%;">C</td> <td style="width: 25%;">D</td> </tr> <tr> <td>(b) 4</td> <td>3</td> <td>1</td> <td>2</td> </tr> <tr> <td>(d) 2</td> <td>1</td> <td>3</td> <td>4</td> </tr> </table>	A	B	C	D	(b) 4	3	1	2	(d) 2	1	3	4																																									
A	B	C	D																																																															
(a) 1	2	3	4																																																															
(c) 4	3	2	1																																																															
A	B	C	D																																																															
(b) 4	3	1	2																																																															
(d) 2	1	3	4																																																															
: સૂચિ-૧ :	: સૂચિ-૨ :																																																																	
<p>A. ટ્રોપોમંડલ(Tropo) B. સમતપ મંડલ(Strato) C. ઓઝોન મંડલ D. આયન મંડલ</p>	<p>૧. વિદ્યુત ચુંબકીય કિરણોનું પરાવર્તન. ૨. પારજાંબલી કિરણોનું અવશોષણ. ૩. વાયુની સ્પૃશ્ય ધારાનો પ્રવાહ. ૪. સામાન્ય તાપમાનમાં ઠાસ દર.</p>																																																																	
	A.	B.	C.	D.																																																														
(a)	૧	૨	૩	૪																																																														
(b)	૪	૩	૧	૨																																																														
(c)	૪	૩	૨	૧																																																														
(d)	૨	૧	૩	૪																																																														



67	<p>Consider the following statements :</p> <p>(A) Art.14 extends to all persons i.e. both citizens and aliens, whereas Art. 15 and 16 are available only to citizens. (R) Art.14 cannot be suspended during the proclamation of emergency under Art. 352.</p> <p>(a) Both A and R are true and R is the correct explanation of A (b) Both are true and R is not the correct explanation of A. (c) A is true, R is false. (d) A is false, R is true.</p> <p>નીચેના વાક્યો તપાસો:-</p> <p>A: અનુચ્છેદ-૧૪ નાગરિકો તથા વિદેશીઓ બંનેને લાગુ પડે છે, જ્યારે અનુચ્છેદ-૧૫ અને ૧૬ ફક્ત નાગરિકોને જ લાગુ પડે છે. R: અનુચ્છેદ-૧૪ને અનુચ્છેદ-૩૫૨ પર મુજબના અધ્યાતકાલ વખતે નિલંબીત કરી શકાતો નથી.</p> <p>(a) કથન (A) તથા તર્ક (R) સત્ય છે, તર્ક (R) કથન (A)ને સમ્બંધિત કરે છે. (b) કથન (A) તથા તર્ક (R) સત્ય છે, પરંતુ તર્ક (R) કથન (A)ને સમ્બંધિત કરતું નથી. (c) કથન (A) સાચું છે, તર્ક (R) ખોટું છે. (d) કથન (A) ખોટું છે, તર્ક (R) સાચું છે.</p>
68	<p>India's biggest hydro-electric project lower subansiri is located in...</p> <p>(a) Uttarakhand (b) Assam (c) Sikkim (d) Arunachal Pradesh</p> <p>દેશની સૌથી મોટી જળ વિદ્યુત પરિયોજના લોવર સુબન્સિરી કયા રાજ્યમાં પ્રસ્તાવિત છે ?</p> <p>(a) ઉત્તરાખંડ (b) અસમ (c) સિક્કિમ (d) અરુણાચલ પ્રદેશ</p>
69	<p>Bodies moving independent of the any force / on their own...</p> <p>(a) Will get deflected on the right side in northern hemisphere. (b) Will get deflected on the right side in southern hemisphere. (c) Will get deflected upwards over the equator. (d) Will remain unaffected by the motion of the earth.</p> <p>સ્વતંત્ર ગતિ કરતી વસ્તુઓ.....</p> <p>(a) ઉત્તરી ગોળાર્ધમાં જમણી બાજુ વિક્ષેપિત થાય છે. (b) દક્ષિણ ગોળાર્ધમાં જમણી બાજુ વિક્ષેપિત થાય છે. (c) વિષુવવૃત્ત રેખા પર ઉપરની તરફ વિક્ષેપિત થાય છે. (d) પૃથ્વીની ગતિઓથી અપ્રભાવિત રહે છે.</p>
70	<p>Consider the following statements :</p> <p>(A) Labour participation in the Indian nationalist upsurge of early 1930s was weak. (R) The labour leaders considered the ideology of INC as bourgeois and reactionary.</p> <p>(a) Both A and R are true and R is the correct explanation of A (b) Both are true and R is not the correct explanation of A. (c) A is true, R is false. (d) A is false, R is true.</p> <p>નીચેના વાક્યો તપાસો:-</p> <p>A: ઇ.સ.૧૯૩૦ના દાયકાની શરૂઆતના રાષ્ટ્રવાદી આંદોલનોમાં શ્રમજીવીઓની ભાગીદારી નહિવત્ હતી. R: શ્રમજીવી નેતાઓ ભારતીય રાષ્ટ્રીય કોંગ્રેસની વિચારસરણીને બુર્જવા અને પ્રતિક્રિયાવાદી ગણતા હતા.</p> <p>(a) કથન (A) તથા તર્ક (R) સત્ય છે, તર્ક (R) કથન (A)ને સમ્બંધિત કરે છે. (b) કથન (A) તથા તર્ક (R) સત્ય છે, પરંતુ તર્ક (R) કથન (A)ને સમ્બંધિત નથી કરતું. (c) કથન (A) સાચું છે, તર્ક (R) ખોટું છે. (d) કથન (A) ખોટું છે, તર્ક (R) સાચું છે.</p>



71	<p>'Hindu Growth Rate' is related to...</p> <p>(a) sharp increase in Hindu population growth rate during 1951 to 1981. (b) growth rate of Indian economy during 1951-1981 (c) growth rate of Hindu population after the year 1981. (d) growth rate of Indian economy after liberalisation.</p> <p>'હિન્દુ વૃદ્ધિ દર' શબ્દાવલી સંબંધિત છે.....</p> <p>(a) ૧૯૫૧ થી ૧૯૮૧ દરમિયાન હિન્દુ જન સંખ્યાનો તીવ્ર વૃદ્ધિ દર. (b) ૧૯૫૧ થી ૧૯૮૧ દરમિયાન ભારતીય અર્થવ્યવસ્થાનો આર્થિક વિકાસ દર. (c) ૧૯૮૧ બાદના વર્ષોમાં હિન્દુ જનસંખ્યાનો વૃદ્ધિ દર. (d) ઉદારીકરણ બાદ ભારતીય અર્થવ્યવસ્થાનો આર્થિક વિકાસ દર.</p>
72	<p>Which of the following railway routes has maximum number of steel factories on its way?</p> <p>(a) Delhi to Chennai via Bhopal (b) Mumbai to Howrah via Raipur (c) Mumbai to Delhi via Bhopal (d) Delhi to Ernakulam via Guntur-renigunta</p> <p>નિમ્ન લિખિતમાંથી કયા રેલમાર્ગ પર સર્વાધિક ઇસ્પાતના કારખાના સ્થિત હશે ?</p> <p>(a) દિલ્હી - ચેન્નાઈ વાયા ભોપાલ. (b) મુંબઈ - હાવાડા વાયા રાયપુર. (c) મુંબઈ - દિલ્હી વાયા ભોપાલ. (d) દિલ્હી - એર્નાકુલમ વાયા ગુંટુર-રેનીગુંટા.</p>
73	<p>Consider the following statements :</p> <p>(A) Artificial satellites are always launched in the eastward direction. (R) The earth rotates from west to east and so the satellite attains the escape velocity.</p> <p>(a) Both A and R are true and R is the correct explanation of A (b) Both are true and R is not the correct explanation of A. (c) A is true, R is false. (d) A is false, R is true.</p> <p>નીચેના વાક્યો તપાસો :- A: માનવ નિર્મિત ઉપગ્રહો હંમેશા પૂર્વ દિશા તરફ જ છોડવામાં આવે છે. R: પૃથ્વી પશ્ચિમથી પૂર્વ તરફ પરિભ્રમણ કરે છે, તેથી ઉપગ્રહ જરૂરી એસ્કેપ વેલોસિટી પ્રાપ્ત કરે છે.</p> <p>(a) કથન (A) તથા તર્ક (R) સત્ય છે, તર્ક (R) કથન (A)ને સાબિત કરે છે. (b) કથન (A) તથા તર્ક (R) સત્ય છે, પરંતુ તર્ક (R) કથન (A)ને સાબિત નથી કરતું. (c) કથન (A) સાચું છે, તર્ક (R) ખોટું છે. (d) કથન (A) ખોટું છે, તર્ક (R) સાચું છે.</p>
74	<p>Service tax is.....</p> <p>(a) a direct tax levied by centre. (b) an indirect tax levied by centre. (c) a direct tax levied by the states. (d) an indirect tax levied by the states.</p> <p>સર્વિસ ટેક્સ.....</p> <p>(a) કેન્દ્ર દ્વારા લાગુ પ્રત્યક્ષ કર છે. (b) કેન્દ્ર દ્વારા લાગુ અપ્રત્યક્ષ કર છે. (c) રાજ્ય દ્વારા લાગુ પ્રત્યક્ષ કર છે. (d) રાજ્ય દ્વારા લાગુ અપ્રત્યક્ષ કર છે.</p>
75	<p>Which of the following states has highest area under non-fertile land?</p> <p>(a) Gujarat (b) Madhya Pradesh (c) J & K (d) Rajasthan</p> <p>કયા રાજ્યમાં બંજર (બિન ઉપજાઉ) ભૂમિનું ક્ષેત્રફળ સર્વાધિક છે ?</p> <p>(a) ગુજરાત (b) મધ્યપ્રદેશ (c) જમ્મુ-કાશ્મીર (d) રાજસ્થાન</p>



76	<p>Which of the following is a cold ocean current?</p> <p>(a) Kurishio current (b) Humboldt current (c) Agulhas current (d) Gulf stream</p> <p>નીચેનામાંથી કયો ઠંડો સમુદ્રી પ્રવાહ છે ?</p> <p>(a) કુરીશીયો પ્રવાહ (b) હમ્બોલ્ટ પ્રવાહ (c) આગુલ્હાસ પ્રવાહ (d) ગાડી પ્રવાહ</p>
77	<p>DOLEX is an index of which of the following stock exchanges?</p> <p>(a) New York (b) Sydney (c) Mumbai (d) London</p> <p>ડોલેક્સ નીચેનામાંથી કયા શેરબજારનો સૂચકાંક છે ?</p> <p>(a) ન્યૂયોર્ક (b) સિડની (c) મુંબઈ (d) લંડન</p>
78	<p>Which of the following tree, once famous for social forestry, is now considered an 'Environmental terrorist'?</p> <p>(a) Babul (b) Eucalyptus (c) Mangrove (d) Deodar</p> <p>નિમ્ન લિખિતમાંથી કયું વૃક્ષ કે જે એક સમયે સામાજિક વાનીકીમાં લોકપ્રિય હતું, પરંતુ હવે એક 'પર્યાવરણીય આતંકવાદી' માનવામાં આવે છે ?</p> <p>(a) બાવળ (b) યુકેલિપ્ટસ (c) મેન્ગ્રોવ (d) દેવદાર</p>
79	<p>Find the correct arrangement of cities from west to east :</p> <p>(a) Raipur, Puri, Porbandar, Nagpur (b) Puri, Nagpur, Raipur, Porbandar (c) Porbandar, Nagpur, Raipur, Puri (d) Porbandar, Raipur, Nagpur, Puri</p> <p>નીચેના શહેરોની ગોઠવણ પૈકી કઈ પશ્ચિમથી પૂર્વ દિશા તરફની છે ?</p> <p>(a) રાયપુર, પુરી, પોરબંદર, નાગપુર. (b) પુરી, નાગપુર, રાયપુર, પોરબંદર. (c) પોરબંદર, નાગપુર, રાયપુર, પુરી. (d) પોરબંદર, રાયપુર, નાગપુર, પુરી.</p>
80	<p>From a fixed point, Nirmala moves 5 km south. Then she takes a right and walks 4 km, again takes a right and walks 2 km. Find the minimum distance between this point and the starting point.</p> <p>(a) 3 km (b) 4 km (c) 5 km (d) 6 km</p> <p>નિર્મલા એક ચોક્કસ સ્થાનેથી ૫ કિ.મી. દક્ષિણ તરફ જાય છે, ત્યાંથી જમણી તરફ ૪ કિ.મી. સાલ્યા પછી ફરીથી જમણી તરફ ૨ કિ.મી. ચાલે છે, તો નિર્મલા શરૂઆતના સ્થાનેથી હાલ ન્યૂનતમ કેટલા અંતર પર છે ?</p> <p>(a) ૩ કિ.મી. (b) ૪ કિ.મી. (c) ૫ કિ.મી. (d) ૬ કિ.મી.</p>
81	<p>A bed sheet is woven using threads of three colours as explained below. Long direction - alternate 2 cm width in white & blue Short direction - alternate 2 cm width in white and grey Which pattern the sheet will have?</p> <p>(a) Square in four colours (b) Square in two colours (c) Square in three colours (d) Strips in four colours.</p> <p>એક ચાદરને નીચે મુજબ ત્રણ અલગ અલગ રંગના દોરા વડે સિધવામાં આવી છે.</p> <p>લાંબી દિશામાં - ૨ સે.મી.ના અંતરે સફેદ અને વાદળી. ટૂંકી દિશામાં - ૨ સે.મી.ના અંતરે સફેદ અને ભૂખરો. તો ચાદર પર રચાતી પેટર્ન કઈ હશે ?</p> <p>(a) ચાર રંગ ધરાવતો ચોરસ (b) બે રંગ ધરાવતો ચોરસ (c) ત્રણ રંગ ધરાવતો ચોરસ (d) ચાર રંગ ધરાવતી પટ્ટીઓ</p>



82	<p>Consider the following :</p> <ol style="list-style-type: none"> 1. RTI act came into force in India in Oct. 2005 2. 55 nations already have such act. 3. The Act makes it mandatory for the authorities to provide information sought within 60 days of application. <p>Which of the above are correct?</p> <p>(a) 1, 2 (b) 2, 3 (c) 1, 3 (d) 1, 2, 3</p> <p>નીચેના વાક્યો તપાસો :</p> <ol style="list-style-type: none"> ૧) ભારતમાં માહિતી મેળવવાના કાયદો (RTI) ઓક્ટોબર-૨૦૦૫માં અમલમાં આવ્યો. ૨) ૫૫ દેશો આ પ્રકારનો કાયદો ધરાવે છે. ૩) આ કાયદા પ્રમાણે અરજીના ૬૦ દિવસોમાં માહિતી આપવી ફરજિયાત છે. <p>ઉપરનામાંથી કયા વાક્યો સાચા છે ?</p> <p>(a) ૧,૨ (b) ૨,૩ (c) ૧,૩ (d) ૧,૨,૩</p>
83	<p>1 barrel of oil consists of.....</p> <p>(a) 129.5 litre (b) 159 litre (c) 179 litre (d) 200 litre</p> <p>તેલનું એક બેરલ લગભગ કેટલા લીટરનું હોય છે ?</p> <p>(a) ૧૨૯.૫ લીટર (b) ૧૫૯ લીટર (c) ૧૭૯ લીટર (d) ૨૦૦ લીટર</p>
84	<p>Which of the following is NOT correct?</p> <ol style="list-style-type: none"> (a) River Mahi originates from the Aravalli hills in Rajasthan. (b) Narmada originates at Amarkantak in Madhya Pradesh. (c) River Krishna originates at Mahabaleshwar in Maharashtra. (d) Mahanadi originates near Raipur in Chhattisgarh. <p>નીચેનામાંથી કયું કથન અસત્ય છે ?</p> <ol style="list-style-type: none"> (a) મહી નદીનું ઉદ્દગમસ્થાન રાજસ્થાનમાં અરવલ્લીની પહાડીઓ છે. (b) નર્મદાનું ઉદ્દગમસ્થાન મધ્યપ્રદેશમાં અમરકંટક છે. (c) કૃષ્ણા નદીનું ઉદ્દગમસ્થાન મહારાષ્ટ્રમાં મહાબલેશ્વર છે. (d) મહાનદીનું ઉદ્દગમસ્થાન છત્તીસગઢમાં રાયપુર પાસે છે.
85	<p>From 1947 to 1950 the newly formed provinces were governed by...</p> <ol style="list-style-type: none"> (a) Rajpramukh (b) Constituent Assembly (c) Princes of the concerned provinces. (d) All of the above. <p>નવા રચાયેલા પ્રદેશો (Provinces) ૧૯૪૭ થી ૧૯૫૦ દરમિયાન કોના દ્વારા શાસિત હતા ?</p> <p>(a) રાજપ્રમુખ (b) સંવિધાન સભા (c) જે તે પ્રદેશના રાજાઓ (d) ઉપરના બધા</p>
86	<p>Choose the correct increasing order of Roman letters.</p> <ol style="list-style-type: none"> (a) L < C < D < M (b) C < D < L < M (c) D < C < M < L (d) D < C < L < M <p>રોમન અંકો નો સાચો ચઢતો ક્રમ કયો છે ?</p> <ol style="list-style-type: none"> (a) L < C < D < M (b) C < D < L < M (c) D < C < M < L (d) D < C < L < M
87	<p>In the context of Indian judicial system, which of the following is/are true?</p> <ol style="list-style-type: none"> 1. Supreme court is the last appellate court. 2. Judgements of the Lok Adalats can not be challenged anywhere else. <p>(a) Only 1 (b) Only 2 (c) Both 1 & 2 (d) None</p> <p>ભારતીય ન્યાય પ્રણાલીના સંદર્ભમાં નીચેનામાંથી કયું/ કયા કથન સત્ય છે ?</p> <ol style="list-style-type: none"> ૧. ભારતમાં સર્વોચ્ચ ન્યાયાલય અંતિમ અપીલીય ન્યાયાલય છે. ૨. લોક અદાલતમાં આપવામાં આવેલા ચૂકાદાને અન્યત્ર પડકારી શકાતો નથી. <p>(a) ફક્ત-૧ (b) ફક્ત ૨ (c) ૧ તથા ૨ બંને (d) બંનેમાંથી એકપણ નહિ</p>



88 Grant in Aid for the welfare of STs is given under the article...

- (a) 338 (b) 275 (c) 343 (d) 278

ST (શીડ્યુલ્ડ ટ્રાઇબ્સ) ના કલ્યાણ માટે રાજ્યોને મળતી આર્થિક સહાય કયા અનુચ્છેદ પ્રમાણે મળે છે ?

- (a) 33૮ (b) ૨૭૫ (c) ૩૪૩ (d) ૨૭૮

89 Find the value of X in figure 3.

64	36	X
25 18 1	16 18 25	9 18 64
16	9	1
(1)	(2)	(3)

- (a) 4 (b) 16 (c) 36 (d) 25

આકૃતિ III માં X નું મૂલ્ય શું હશે ?

૬૪	૩૬	X
૨૫ ૧૮ ૧	૧૬ ૧૮ ૨૫	૯ ૧૮ ૬૪
૧૬	૯	૧
(૧)	(૨)	(૩)

- (a) ૪ (b) ૧૬ (c) ૩૬ (d) ૨૫

90 Who of the following Nobel Laureates was not an Indian citizen at the time of receiving the award?

- (a) Amartya sen (b) Ravindranath Tagore (c) C. V. Raman (d) Mother Teresa

નીચેનામાંથી કયા નોબેલ વિજેતા પુરસ્કાર મળ્યો ત્યારે ભારતીય નાગરિક ન હતા ?

- (a) અમર્ત્યસેન (b) રવિન્દ્રનાથ ટાગોર (c) સી.વી.રમણ (d) મદર ટેરેસા

91 Freedom of press in India ...

- (a) is specifically provided for in article 19 (1) (a) of the constitution.
 (b) is implied from the wider freedom of expression guaranteed under Art. 19 (1) (a).
 (c) is guaranteed under Art. 361.
 (d) emanates from the operation of the rule of law in the country.

ભારતમાં સમાચાર માધ્યમો (Press) ની સ્વતંત્રતા.....

- (a) બંધારણના અનુચ્છેદ ૧૯(૧)(એ)માં સ્પષ્ટપણે ઉલ્લેખ પામી છે.
 (b) અનુચ્છેદ ૧૯(૧)(એ) પ્રમાણે વિસ્તાર પામેલી અભિવ્યક્તિની સ્વતંત્રતામાં ગર્ભિત રહેલી છે.
 (c) અનુચ્છેદ-૩૬૧ પ્રમાણે અપાયેલ છે.
 (d) દેશમાં રહેલ કાયદાના શાસનના અમલથી ઉદ્ભવે છે.

92 Alpa travels from X to Y at a speed of 40 km/hr. She increases her speed by 50% while traveling back from Y to X. Find the average speed with which Alpa travels.

- (a) 36 km/hr (b) 45 km/hr (c) 48 km/hr (d) 50 km/hr

અલ્પા X સ્થાનેથી Y સ્થાન સુધી ૪૦ k.m. પ્રતિ કલાકની ઝડપથી યાત્રા કરે છે તથા પોતાની ગતિ ૫૦ પ્રતિશત વધારીને Y થી X પર પાછી ફરે છે. બંને યાત્રાઓ દરમિયાન અલ્પાની સરેરાશ ગતિ કેટલી હશે ?

- (a) 36 k.m./h (b) 45 k.m./h (c) 48 k.m./h (d) 50 k.m./h

93 Who is considered as the father of plastic surgery and cosmetic surgery?

- (a) Hippocrates (b) Charaka (c) Sushruta (d) Imhotep

પ્લાસ્ટીક સર્જરી અને કોસ્મેટીક સર્જરીના પિતા કોને માનવામાં આવે છે ?

- (a) હિપોક્રેટસ (b) ચરક (c) સુશ્રુત (d) ઇમ્હોટેપ



94	Which one of the following forms a part of the electoral college for the election of the president of India but does not form a part of the quorum for his impeachment? (a) Lok Sabha (b) Rajyasabha (c) State legislative council (d) State legislative assembly નીચેનામાંથી કયું રાષ્ટ્રપતિની ચૂંટણી માટેની ઇલેક્ટોરલ કોલેજના ભાગ રૂપે હોય છે, પરંતુ રાષ્ટ્રપતિના મહાભિયોગ (Impeachment) માટે જરૂરી લઘુત્તમ અપેક્ષિત સંખ્યા (Quorum)ના ભાગરૂપે હોતું નથી ? (a) લોકસભા (b) રાજ્યસભા (c) રાજ્ય વિધાન પરિષદ (d) રાજ્ય વિધાનસભા
95	There are 111 members in a club; out of which 2/3 are men. All members of the club are married except 9 women members. What is the total number of married women members? (a) 21 (b) 25 (c) 28 (d) 30 એક ક્લબમાં ૧૧૧ સદસ્યો છે, તેમાંથી ૨/૩ પુરૂષો તથા બાકીની મહિલાઓ છે. ૯ મહિલા સદસ્યોને બાદ કરતાં બાકીના બધા જ સદસ્યો વિવાહિત છે. ક્લબમાં વિવાહિત મહિલાઓ કેટલી છે ? (a) ૨૧ (b) ૨૫ (c) ૨૮ (d) ૩૦
96	The parliament can legislate on the subjects mentioned in the 'state list' when... 1. The council of states passes a resolution to this effect by two-third majority. 2. When emergency is in place. 3. When the assemblies of two or more states pass resolutions to this effect. 4. The matter involves international treaties. (a) 1, 2, 3 (b) 1, 3, 4 (c) 2, 3, 4 (d) 1, 2, 3, 4 સંસદ રાજ્યસૂચિના વિષય પર કાનૂન બનાવી શકે છે, જ્યારે..... ૧) રાજ્યસભા બે તૃતીયાંશ બહુમતિથી આ સંદર્ભનો પ્રસ્તાવ પારિત કરે. ૨) અભ્યંતર સમય વાગ્યું હોય. ૩) બે કે વધુ રાજ્યોની વિધાનસભા આ સંદર્ભે પ્રસ્તાવ પારિત કરે. ૪) કોઈ સંધિ કે આંતરરાષ્ટ્રીય સમજૂતિ કરવાની હોય. (a) ૧,૨,૩ (b) ૧,૩,૪ (c) ૨,૩,૪ (d) ૧,૨,૩,૪
97	In a closed room, with perfect insulation from outside, a refrigerator is left on with its door open. After some time the temperature of the room will... (a) Increase (b) Decrease (c) Remain constant (d) Can not say બંધરૂંબાના કાંચાવરણથી તદ્દન અલિપ્ત એવા બંધ રૂમમાં, ચાલુ રેફ્રિજરેટરનો દરવાજો ખુલ્લો રાખવામાં આવે તો, રૂમનું તાપમાન..... (a) વધશે (b) ઘટશે (c) અચલ રહેશે. (d) કંઈ ન કહી શકાય
98	The sum of the ages of Jashodaben and her son is 45 years. Before 5 years, the multiplication of their ages was 4 times the age of Jashodaben at that time. Find the present age of both. (a) 35 years, 10 years (b) 36 years, 9 years (c) 39 years, 6 years (d) 40 years 5 years જશોદાબહેન તથા તેમના પુત્રની ઉંમરનો સરવાળો ૪૫ વર્ષ છે, જો ૫ વર્ષ પહેલાં બંનેની ઉંમરનો ગુણાકાર એ સમયે જશોદાબહેનની ઉંમરના ૪ ગણા હોય તો વર્તમાનમાં બંનેની ઉંમર કેટલી હશે ? (a) ૩૫ વર્ષ, ૧૦ વર્ષ (b) ૩૬ વર્ષ, ૦૯ વર્ષ (c) ૩૯ વર્ષ, ૦૬ વર્ષ (d) ૪૦ વર્ષ, ૦૫ વર્ષ
99	The post of Lokpal in India takes its inspiration from ... (a) Scandinavian Ombudsman (b) Parliamentary commissioner of U.K. (c) Council of the States of France (d) Procurator General of Russia. ભારતમાં લોકપાલનું પદ કોનાથી પ્રેરિત છે ? (a) સ્કેન્ડિનેવિયાના ઓમ્બડસમેનથી. (b) યુ.કે.ના પાર્લામેન્ટરી કમિશનરથી. (c) ફ્રાન્સના કાઉન્સિલ ઓફ સ્ટેટ્સથી (d) રશિયાના પ્રોક્યુરેટર જનરલથી



100	<p>Considering that you are the DM of a district, prioritize the following steps in a situation of flood in your district.</p> <ol style="list-style-type: none"> 1. Rehabilitation of the affected people 2. Providing food and medicines 3. Documentation 4. Creating shelters 5. Search & Rescue <p>(a) 2 - 4 - 5 - 3 - 1 (b) 3 - 2 - 4 - 5 - 1 (c) 5 - 4 - 2 - 1 - 3 (d) 5 - 2 - 1 - 4 - 3</p> <p>પુરની સ્થિતિમાં એક જીલ્લા કલેક્ટર તરીકે તમે નીચે મુજબના પગલાંઓને કયા અસરકારકતામાં લેશો ?</p> <ol style="list-style-type: none"> ૧) પુરમાં હતાકત ચયેલા લોકોનું પુનર્વસન ૨) ખાદ્યસામગ્રી અને દવાઓ પુરી પાડવી ૩) દસ્તાવેજીકરણ ૪) આશ્રયસ્થાનો ઊભા કરવા ૫) ખોજ અને બચાવ કામગીરી <p>(a) ૨-૪-૫-૩-૧ (b) ૩-૨-૪-૫-૧ (c) ૫-૪-૨-૧-૩ (d) ૫-૨-૧-૪-૩</p>
101	<p>A, B and C are partners in a business. A invests 500 Rs. for 3 months; B invests 400 Rs. for 5 months and C invests 500 Rs. for 5 months. If they earn a combined profit of Rs. 2000, What will be A's share in it?</p> <p>(a) 400 Rs. (b) 450 Rs. (c) 500 Rs. (d) 550 Rs.</p> <p>A, B તથા C ભાગીદારીમાં ધંકો કરે છે, A ત્રણ મહિના માટે ૫૦૦ રૂા. નિવેશ કરે છે, B પાંચ મહિના માટે ૪૦૦ રૂા. નિવેશ કરે છે તથા C પાંચ મહિના માટે ૫૦૦ રૂા. નિવેશ કરે છે, આ ભાગીદારીથી પ્રાપ્ત રૂા. ૨૦૦૦ નફામાંથી Aનો હિસ્સો કેટલો હશે ?</p> <p>(a) ૪૦૦ રૂા. (b) ૪૫૦ રૂા. (c) ૫૦૦ રૂા. (d) ૫૫૦ રૂા.</p>
102	<p>Which of the following statements is correct?</p> <ol style="list-style-type: none"> (a) The president decides on a bill being a money bill. (b) Money bill can't be introduced in the Rajya Sabha. (c) No confidence motion can be introduced against the council of ministers in any of the house. (d) Rajya Sabha can not discuss the Annual Financial Statement. <p>નીચેના વિધાનોમાંથી કયું વિધાન સત્ય છે ?</p> <ol style="list-style-type: none"> (a) કોષ્ટપણ વિધેયક ધન વિધેયક છે કે નહિ તેનો કૈંસલો રાષ્ટ્રપતિ કરે છે. (b) ધન વિધેયક રાજ્યસભામાં રજૂ કરી શકાય નહિ. (c) મંત્રી પરિષદ વિરૂદ્ધ અવિશ્વાસ પ્રસ્તાવ કોષ્ટપણ ગૃહમાં લાવી શકાય છે. (d) વાર્ષિક વિલિય વિવરણ પર રાજ્યસભા વિચાર કરી શકે નહિ.
103	<p>What is peculiar about J & K?</p> <ol style="list-style-type: none"> (a) Indian laws are not applicable (b) Has its own civil code (c) Has its own criminal code (d) Has its own constitution <p>જમ્મુ-કાશ્મીર રાજ્યની ખાસિયત શું છે ?</p> <ol style="list-style-type: none"> (a) ભારતના કાયદાઓ ત્યાં અમલી નથી. (b) પોતાનો સ્વતંત્ર સિવિલ કોડ છે. (c) પોતાનો સ્વતંત્ર ક્રિમિનલ કોડ છે. (d) પોતાનું સ્વતંત્ર બંધારણ છે.
104	<p>Tap A & Tap B take 12 min. and 15 min. respectively to fill a bucket. If both taps are opened together and Tap A is closed after 3 minutes, How much time Tap B will take to fill the rest of the bucket?</p> <ol style="list-style-type: none"> (a) 7 minute 45 second (b) 7 minute 15 second (c) 8 minute 5 second (d) 8 minute 15 second <p>નળ A તથા B એક ડોલ ભરવામાં કમશ: ૧૨ મિનિટ તથા ૧૫ મિનિટ સમય લે છે. જો બંને નળ ખોલી દેવામાં આવે તથા ૩ મિનિટ પછી A ને બંધ કરી દેવામાં આવે તો બાકીની ડોલ ભરવામાં B ને કેટલો સમય લાગશે ?</p> <ol style="list-style-type: none"> (a) ૭ મિનિટ ૪૫ સેકન્ડ (b) ૭ મિનિટ ૧૫ સેકન્ડ (c) ૮ મિનિટ ૫ સેકન્ડ (d) ૮ મિનિટ ૧૫ સેકન્ડ



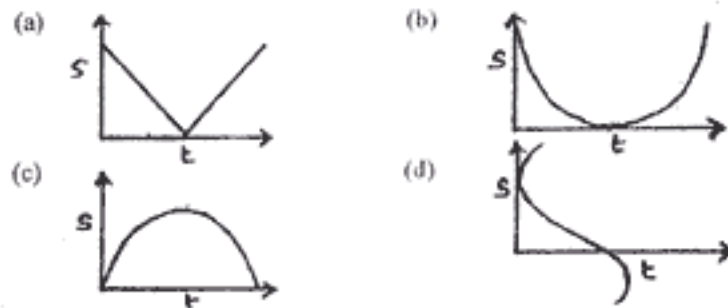
105 How many High courts have their jurisdiction extended to more than one states?

- (a) two (b) three (c) five (d) six

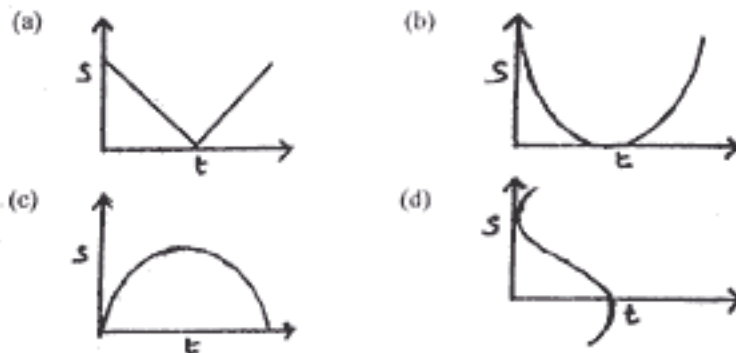
ભારતમાં કેટલી ઉચ્ચ ન્યાયાલયોનું કાર્યક્ષેત્ર એક કરતાં વધુ રાજ્યો સુધી વિસ્તૃત છે ?

- (a) બે (b) ત્રણ (c) પાંચ (d) છ

106 The speed-time graph of a body projected vertically in vacuum will be...



શૂન્યાવકાશમાં ઉપરની તરફ પ્રક્ષેપિત કરેલ પદાર્થનો ઝડપ વિ. સમય આલેખ કેવો હશે ?



107 In how many different ways 9 different letters can be put in 3 different post boxes?

- (a) 27 (b) 3^9 (c) 9^3 (d) 3^9-3

નવ (e) અલગ અલગ પત્રોને ત્રણ અલગ અલગ પોસ્ટ બોક્સમાં નાખવા છે. આનું કેટલી અલગ અલગ રીતે કરી શકાય ?

- (a) ૨૭ (b) $૩^૯$ (c) $૯^૩$ (d) $૩^૯-૩$

108 To reserve seats for women in Lok Sabha, which of the following articles need to be amended?

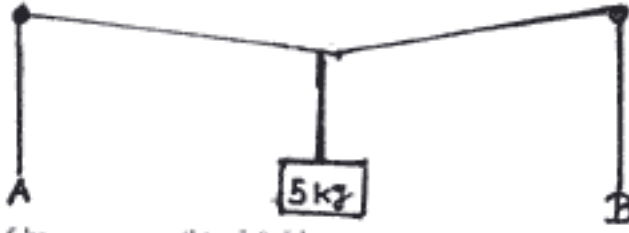
- (a) Art 330 (b) Art 332 (c) Art 335 (d) Art 333

લોકસભામાં મહિલાઓની બેઠકો આરક્ષિત કરવા માટે સંવિધાનમાં કયો અનુચ્છેદ સુધારવો પડશે ?

- (a) અનુચ્છેદ-૩૩૦ (b) અનુચ્છેદ-૩૩૨ (c) અનુચ્છેદ-૩૩૫ (d) અનુચ્છેદ-૩૩૩



109 In the diagram given below, how much weight should be applied on ends A & B so that the rope becomes straight?



- (a) 2.5 & 2.5 kg (b) 5 & 5 kg
(c) 2.5 & 10 kg (d) Rope can never be straight by applying any weight at A & B

નીચે આકૃતિમાં બતાવ્યા મુજબ A અને B છેડા પર કેટલું વજન લગાવવાથી દોરીને સીધી કરી શકાય ?



- (a) ૨.૫ કિ.ગ્રા. અને ૨.૫ કિ.ગ્રા. (b) ૫ કિ.ગ્રા. અને ૫ કિ.ગ્રા.
(c) ૨.૫ કિ.ગ્રા. અને ૧૦ કિ.ગ્રા. (d) કોઈપણ પ્રકારનું વજન લગાવવા છતાં દોરીને સીધી કરી શકાય નહિ.

110 There bells ring at the intervals of 9, 12 and 15 minutes respectively. They ring together at 8 am. When next they will ring together?

- (a) 8.45 am (b) 10.30 a.m. (c) 11.00 am (d) 1.30 p.m.

ત્રણ ઘંટડીઓ ક્રમશઃ ૯, ૧૨ તથા ૧૫ મિનિટના અંતરાલથી વાગે છે. ૮ ઠ.મ. પર સાથે સાથે વાગ્યા પછી ત્રણે એક સાથે સૌથી પહેલાં કેટલા વાગે વાગશે ?

- (a) ૦૮.૪૫ ઠ.મ. (b) ૧૦.૩૦ ઠ.મ. (c) ૧૧.૦૦ ઠ.મ. (d) ૦૧.૩૦ p.m.

111 Which of the following constitutional amendment acts added four languages to the eighth schedule of the constitution?

- (a) 90th (b) 91st (c) 92nd (d) 93rd

કયા સંવિધાન સંશોધન અધિનિયમ દ્વારા સંવિધાનની આઠમી સૂચિમાં ચાર ભાષાઓ જોડવામાં આવી ?

- (a) ૯૦મું (b) ૯૧મું (c) ૯૨મું (d) ૯૩મું

112 'OMR' sheet which you are using at present to answer the questions, stands for.....

- (a) Optical Mark Reader (b) Optical Magnetic Resonance
(c) Original Mark Reader (d) Optical Magnetic Reader

OMRશીટ કે જે તમે આ પ્રશ્નપત્રના જવાબો માટે વાપરી રહ્યા છો તેનું પૂરું નામ છે.....

- (a) ઓપ્ટિકલ માર્ક રીડર. (b) ઓપ્ટિકલ મેગ્નેટિક રેઝોનન્સ.
(c) ઓરિજિનલ માર્ક રીડર. (d) ઓપ્ટિકલ મેગ્નેટિક રીડર.

113 Which committee/commission was appointed to suggest reforms in the banking sector?

- (a) Deepak Parekh committee (b) Sarkaria commission
(c) Tarapore committee (d) Narsimhan committee

બેંકિંગ પ્રણાલિમાં સુધાર માટે કઈ સમિતિ/આયોગ નિમવામાં આવ્યું ?

- (a) દીપક પારેખ સમિતિ (b) સરકારીઆ આયોગ
(c) તારપોર સમિતિ (d) નરસિમહન સમિતિ



114	<p>Which of the following public services are All India Services?</p> <ol style="list-style-type: none">1. Indian Administrative Service2. Indian Police Service3. Indian Revenue Service4. Indian Forest Service <p>(a) 1, 2, 3 (b) 1, 2, 4 (c) 1, 3, 4 (d) 1, 2, 3, 4</p> <p>નિચ્ચ લિખિત લોકસેવાઓમાંથી કયું સેવાઓ સમિત ભારતીય સેવાઓ છે ?</p> <ol style="list-style-type: none">૧. ભારતીય પ્રશાસનીક સેવા૨. ભારતીય પોલીસ સેવા૩. ભારતીય રેવેન્યુ સેવા૪. ભારતીય વન સેવા <p>(a) ૧, ૨, ૩ (b) ૧, ૨, ૪ (c) ૧, ૩, ૪ (d) ૧, ૨, ૩, ૪</p>
115	<p>Bhopal gas tragedy occurred in the year...</p> <p>(a) 1986 (b) 1982 (c) 1984 (d) 1983</p> <p>ભોપાલ ગેસ દુર્ઘટના કયા વર્ષમાં અચેલ હતી ?</p> <p>(a) ૧૯૮૬ (b) ૧૯૮૨ (c) ૧૯૮૪ (d) ૧૯૮૩</p>
116	<p>Which of the following is Not correct?</p> <p>(a) India is the only country to legally produce and export opium. (b) India ranks first in the production of Mango and lemon. (c) India is the largest producer and exporter of coconut. (d) India is the largest producer and consumer of cashew.</p> <p>નીચેના વિધાનોમાંથી કયું વિધાન અસત્ય છે ?</p> <p>(a) ભારત અફીણનો એકમાત્ર વિધિસંમત ઉત્પાદક તથા નિર્યાતક દેશ છે. (b) કેરી તથા લીંબુના ઉત્પાદનમાં ભારત વિશ્વમાં પ્રથમ છે. (c) ભારત નાળિયરનો સૌથી મોટો ઉત્પાદક તથા નિર્યાતક દેશ છે. (d) ભારત કાજુનો સૌથી મોટો ઉત્પાદક તથા ઉપભોક્તા દેશ છે.</p>
117	<p>Which of the following metals is used to produce stainless steel?</p> <p>(a) Nickel & Copper (b) Chromium & Nickel (c) Benzene & Nickel (d) Copper & Chromium</p> <p>સ્ટેનલેસ સ્ટીલ બનાવવામાં નીચેનામાંથી કયું ધાતુઓ વપરાય છે ?</p> <p>(a) નિકલ તથા તાંબુ (b) ક્રોમિયમ તથા નિકલ (c) બેન્ઝિન તથા નિકલ (d) તાંબુ તથા ક્રોમિયમ</p>
118	<p>Consider the following statements with respect to FIFA world cup.</p> <ol style="list-style-type: none">1. FIFA world cup 2014 will be played at Brazil.2. Germany stands at the same position in FIFA world cup 2006 & 2010.3. FIFA has compulsory doping tests under WADA.4. All the teams playing in FIFA world cup must first pass the qualifying round. <p>(a) 1, 3 (b) 1, 4 (c) 1, 2 (d) 1, 2, 3, 4</p> <p>FIFA ફૂટબોલ વર્લ્ડકપ વિશે નીચેના વાક્યો તપાસો :</p> <ol style="list-style-type: none">૧) FIFA ફૂટબોલ વર્લ્ડકપ ૨૦૧૪ બ્રાઝિલમાં રમાશે.૨) ૨૦૦૬ તથા ૨૦૧૦ના વર્લ્ડકપમાં જર્મનીએ એકસરખું સ્થાન જાળવ્યું છે.૩) વર્લ્ડકપ માટે FIFA ફરજિયાતપણે WADA ટેસ્ટિંગ ડ્રગ ટેસ્ટ કરાવે છે.૪) વર્લ્ડકપ રમતી બધી ટીમોએ ફરજિયાતપણે પહેલાં ક્વોલિફાઇંગ રાઉન્ડ પાસ કરવો પડે છે. <p>ઉપરનામાંથી કયા વાક્યો સાચા છે ?</p> <p>(a) ૧, ૩ (b) ૧, ૪ (c) ૧, ૨ (d) ૧, ૨, ૩, ૪</p>



119	<p>Yorkshire, Hampshire and Lendrus are...</p> <p>(a) Cities of south Africa (b) High quality breeds of goats. (c) Varieties of Br Brinjal (d) Various breeds of pigs.</p> <p>યોર્કશાયર, હેમ્પશાયર તથા લેન્ડરસ શું છે ?</p> <p>(a) દક્ષિણ આફ્રિકાના શહેરો. (b) ઝાડરીઓની ઉચ્ચ ઓલાદ. (c) બીટી રીંગણાની જાતો. (d) સુપરની ઉત્તમ ઓલાદ.</p>																																																																																																																				
120	<p>Barcode, which is printed on branded products, represents :</p> <p>(a) Serial number of the product only (b) The price of a product or date of expiry. (c) Manufacturer's information (d) None of the above</p> <p>બ્રાન્ડેડ વસ્તુઓ પર છાપવામાં આવેલ 'બારકોડ' શું દર્શાવે છે ?</p> <p>(a) જે તે વસ્તુનું ક્રમાંકન (b) વસ્તુની કિંમત કે વસ્તુની સમયાવધિ (c) ઉત્પાદનકર્તા વિશે માહિતી (d) ઉપરનામાંથી કોઈ નહિ</p>																																																																																																																				
121	<p>'Usain bolt' belongs to.....</p> <p>(a) Honduras (b) Ghana (c) Jamaica (d) Haiti</p> <p>યુસેન બોલ્ટ એ કયા દેશનો વ્યક્તિ છે ?</p> <p>(a) હોન્ડુરસ (b) ઘાના (c) જમૈકા (d) હૈતી</p>																																																																																																																				
122	<p>Match the following :</p> <table border="0"> <tr> <td colspan="4"><u>Dance</u></td> <td colspan="4"><u>Regions</u></td> </tr> <tr> <td colspan="4">A. Bharat Natyam</td> <td colspan="4">1. North India</td> </tr> <tr> <td colspan="4">B. Kathakali</td> <td colspan="4">2. Tamil Nadu</td> </tr> <tr> <td colspan="4">C. Kathak</td> <td colspan="4">3. Andhrapradesh</td> </tr> <tr> <td colspan="4">D. Kuchipudi</td> <td colspan="4">4. Kerala</td> </tr> </table> <table border="0"> <tr> <td>(a)</td> <td>A</td> <td>B</td> <td>C</td> <td>D</td> <td>(b)</td> <td>A</td> <td>B</td> <td>C</td> <td>D</td> </tr> <tr> <td></td> <td>2</td> <td>4</td> <td>1</td> <td>3</td> <td></td> <td>4</td> <td>2</td> <td>1</td> <td>3</td> </tr> <tr> <td>(c)</td> <td>2</td> <td>4</td> <td>3</td> <td>1</td> <td>(d)</td> <td>4</td> <td>2</td> <td>3</td> <td>1</td> </tr> </table> <p>સૂચિ-૧ ને સૂચિ-૨ સાથે સુમેલિત કરો.</p> <table border="0"> <tr> <td></td> <td colspan="2"><u>(શાસ્ત્રીય નૃત્ય)</u></td> <td colspan="2"><u>(પ્રદેશ)</u></td> </tr> <tr> <td>A.</td> <td>ભરત નાટ્યમ્</td> <td>૧.</td> <td>ઉત્તર ભારત</td> </tr> <tr> <td>B.</td> <td>કથકલિ</td> <td>૨.</td> <td>તમિલનાડુ</td> </tr> <tr> <td>C.</td> <td>કથક</td> <td>૩.</td> <td>આન્ધ્રપ્રદેશ</td> </tr> <tr> <td>D.</td> <td>કુચિપુડિ</td> <td>૪.</td> <td>કેરલ</td> </tr> </table> <table border="0"> <tr> <td>(a)</td> <td>A.</td> <td>B.</td> <td>C.</td> <td>D.</td> </tr> <tr> <td></td> <td>૨</td> <td>૪</td> <td>૧</td> <td>૩</td> </tr> <tr> <td>(b)</td> <td>૪</td> <td>૨</td> <td>૧</td> <td>૩</td> </tr> <tr> <td>(c)</td> <td>૨</td> <td>૪</td> <td>૩</td> <td>૧</td> </tr> <tr> <td>(d)</td> <td>૪</td> <td>૨</td> <td>૩</td> <td>૧</td> </tr> </table>	<u>Dance</u>				<u>Regions</u>				A. Bharat Natyam				1. North India				B. Kathakali				2. Tamil Nadu				C. Kathak				3. Andhrapradesh				D. Kuchipudi				4. Kerala				(a)	A	B	C	D	(b)	A	B	C	D		2	4	1	3		4	2	1	3	(c)	2	4	3	1	(d)	4	2	3	1		<u>(શાસ્ત્રીય નૃત્ય)</u>		<u>(પ્રદેશ)</u>		A.	ભરત નાટ્યમ્	૧.	ઉત્તર ભારત	B.	કથકલિ	૨.	તમિલનાડુ	C.	કથક	૩.	આન્ધ્રપ્રદેશ	D.	કુચિપુડિ	૪.	કેરલ	(a)	A.	B.	C.	D.		૨	૪	૧	૩	(b)	૪	૨	૧	૩	(c)	૨	૪	૩	૧	(d)	૪	૨	૩	૧
<u>Dance</u>				<u>Regions</u>																																																																																																																	
A. Bharat Natyam				1. North India																																																																																																																	
B. Kathakali				2. Tamil Nadu																																																																																																																	
C. Kathak				3. Andhrapradesh																																																																																																																	
D. Kuchipudi				4. Kerala																																																																																																																	
(a)	A	B	C	D	(b)	A	B	C	D																																																																																																												
	2	4	1	3		4	2	1	3																																																																																																												
(c)	2	4	3	1	(d)	4	2	3	1																																																																																																												
	<u>(શાસ્ત્રીય નૃત્ય)</u>		<u>(પ્રદેશ)</u>																																																																																																																		
A.	ભરત નાટ્યમ્	૧.	ઉત્તર ભારત																																																																																																																		
B.	કથકલિ	૨.	તમિલનાડુ																																																																																																																		
C.	કથક	૩.	આન્ધ્રપ્રદેશ																																																																																																																		
D.	કુચિપુડિ	૪.	કેરલ																																																																																																																		
(a)	A.	B.	C.	D.																																																																																																																	
	૨	૪	૧	૩																																																																																																																	
(b)	૪	૨	૧	૩																																																																																																																	
(c)	૨	૪	૩	૧																																																																																																																	
(d)	૪	૨	૩	૧																																																																																																																	
123	<p>Iron nail floats on mercury but sinks in water, because...</p> <p>(a) Iron is heavier as compared to water, but lighter as compared to mercury. (b) Iron's tendency to chemically interact is more with water than mercury. (c) Mercury is thicker than water. (d) Density of Iron is less than mercury's but more than water's.</p> <p>લોખંડની ખીલી પારા પર તરે છે, જ્યારે પાણીમાં ડૂબી જાય છે, કારણ કે.....</p> <p>(a) લોખંડનો ભાર પાણી કરતાં વધુ છે, જ્યારે પારા કરતા ઓછો છે. (b) લોખંડની રાસાયણિક પ્રક્રિયા કરવાની પ્રવૃત્તિ પારા કરતા પાણી સાથે વધારે છે. (c) પારો પાણી કરતાં વધુ ઘટ્ટ છે. (d) લોખંડનું ઘનત્વ પારા કરતા ઓછું, જ્યારે પાણી કરતાં વધુ છે.</p>																																																																																																																				



124	In the 2010 commonwealth games being hosted by New Delhi, which two new disciplines will be added? (a) Billiards and Kabaddi (b) Tennis and Archery (c) Basketball and Volleyball (d) Tennis and Billiards દિલ્હીમાં રમાનાર ૨૦૧૦ કોમન વેલ્થ ગેમ્સમાં કય બે નવી રમતોનો સમાવેશ કરવામાં આવશે ? (a) બિલિયર્ડ્સ અને કબડ્ડી (b) ટેનિસ અને આર્ચરી (c) બાસ્કેટબોલ અને વોલીબોલ (d) ટેનિસ અને બિલિયર્ડ્સ
125	Which of the following prepares the CPI (Consumer price Index)? (a) NSSO (b) CSO (c) SEBI (d) Forward Market Commission કય રાષ્ટ્રીય સંસ્થા ઉપબોધતા મૂલ્ય સૂચકાંક (કન્સ્યુમર પ્રાઇઝ ઇન્ડેક્સ) તૈયાર કરે છે ? (a) એન.એસ.એસ.ઓ. (b) સી.એસ.ઓ. (c) સેબી (d) ફોરવર્ડ માર્કેટ કમિશન.
126	In which part of human body Vitamin A is stored? (a) Liver (b) Skin (c) Kidney (d) Lymph gland. માનવ શરીરમાં વિટામિન-એ કયા ભાગમાં સંચિત રહે છે ? (a) યકૃત (b) ચામડી (c) મૂત્રપિંડ (d) લસિકાગ્રંથિ
127	'Jabulani' which was recently in news, is..... (a) the official mascot of commonwealth games 2010. (b) a style of bowling in cricket. (c) name of the football used in FIFA-2010. (d) a material of which footballs are made. 'જબુલાની' જે હાલમાં સમાચારોમાં હતું એ..... (a) કોમનવેલ્થ ગેમ્સ ૨૦૧૦નું સત્તાવાર મારકોટ (પ્રતીક) (b) ક્રિકેટમાં વપરાતો બોલિંગ પ્રકાર છે. (c) FIFA-૨૦૧૦માં વપરાયેલ ફૂટબોલનું નામ છે. (d) એવું મટીરીયલ કે જેમાંથી ફૂટબોલ બને છે.
128	India's first Export processing zone is located at... (a) Santacruz (b) Kandala (c) Chennai (d) Noida ભારતનું પહેલું નિર્યાત સંકર્ષન ઝોન (EPZ) કયું છે ? (a) સાંતાક્રુઝ (b) કંડલા (c) ચેન્નાઈ (d) નોઈડા
129	When does a person standing in a lift experience more weight? (a) When the lift moves upwards speedily. (b) When the lift moves upwards slowly. (c) When the lift moves downwards speedily. (d) When the lift moves downwards slowly. લીફ્ટમાં ઊભેલી વ્યક્તિને પોતાનો વજન ક્યારે વધુ લાગે છે ? (a) જ્યારે લીફ્ટ ઝડપથી ઉપર જઈ રહી હોય (b) લીફ્ટ ધીમા વેગથી ઉપર જઈ રહી હોય (c) લીફ્ટ ઝડપથી વેગથી નીચે આવી રહી હોય (d) લીફ્ટ ધીમા વેગથી નીચે આવી રહી હોય
130	Rio De Janeiro, Brazil was voted to host the 2016 summer Olympics. Which venue gave it the closest competition? (a) Chicago (b) Madrid (c) Tokyo (d) New Delhi રીઓ-દી-જનેરો (બ્રાઝિલ) ૨૦૧૬નો ઉનાળુ ઓલિમ્પિક યોજશે. કયા સ્થળે આ માટે તેને ખૂબ નજીકની સ્પર્ધા આપેલી ? (a) ચિકાગો (b) મેડ્રીડ (c) ટોક્યો (d) ન્યૂ દિલ્હી





131	Matters related to "COPYRIGHT" are under the Ministry of... (a) Home (b) Human resource development (c) Information and broadcasting (d) Law and Justice 'કોપી રાઇટ' નો વિષય કયા મંત્રાલયને આધીન છે ? (a) ગૃહ મંત્રાલય (b) માનવ સંસાધન વિકાસ મંત્રાલય (c) સૂચના અને પ્રસારણ મંત્રાલય (d) વિદિ અને ન્યાય મંત્રાલય																																																																															
132	Which gases are used in common tube lights? (a) Argon and Sodium vapour (b) Argon and Mercury vapour (c) Neon and Mercury vapour (d) Neon and Sodium vapour. સામાન્ય ટ્યૂબલાઇટમાં કયા ગેસ વપરાય છે ? (a) આર્ગન તથા સોડિયમ વેપર (b) આર્ગન તથા મરક્યુરી વેપર (c) નિયોન તથા મરક્યુરી વેપર (d) નિયોન તથા સોડિયમ વેપર																																																																															
133	'Line and strength' is the autobiography of... (a) Ricky Ponting (b) Shane Warne (c) Wasim Akram (d) Glenn McGrath 'લાઇન એન્ડ સ્ટ્રેન્થ' એ કયા ખેલાડીની આત્મકથા છે ? (a) રિકી પોન્ટિંગ (b) શેન વોર્ન (c) વસીમ અક્રમ (d) ગ્લેન મેકગ્રા																																																																															
134	Match the following : <table border="0"> <tr> <td>List -1</td> <td>List -2</td> </tr> <tr> <td>A. National Defence Academy</td> <td>1. Khadakwasla</td> </tr> <tr> <td>B. Indian Military Academy</td> <td>2. Dehradun</td> </tr> <tr> <td>C. Defense Service Staff college</td> <td>3. Wellington</td> </tr> <tr> <td>D. College of military engineering</td> <td>4. Pune</td> </tr> </table> <table border="0"> <tr> <td>A</td> <td>B</td> <td>C</td> <td>D</td> <td>A</td> <td>B</td> <td>C</td> <td>D</td> </tr> <tr> <td>(a) 2</td> <td>1</td> <td>4</td> <td>3</td> <td>(b) 1</td> <td>2</td> <td>4</td> <td>3</td> </tr> <tr> <td>(c) 1</td> <td>2</td> <td>3</td> <td>4</td> <td>(d) 2</td> <td>1</td> <td>3</td> <td>4</td> </tr> </table> સૂચિ-૧ ને સૂચિ-૨ સાથે સુમેલિત કરો. <table border="0"> <tr> <td></td> <td>(સૂચિ-૧)</td> <td></td> <td>(સૂચિ-૨)</td> </tr> <tr> <td>A.</td> <td>નેશનલ ડિફેન્સ એકેડમી</td> <td>૧.</td> <td>ખડકવાસલા</td> </tr> <tr> <td>B.</td> <td>ઇન્ડિયન મિલિટરી એકેડમી</td> <td>૨.</td> <td>દેહરાદૂન</td> </tr> <tr> <td>C.</td> <td>ડિફેન્સ સર્વિસ સ્ટાફ કોલેજ</td> <td>૩.</td> <td>વેલિંગ્ટન</td> </tr> <tr> <td>D.</td> <td>કોલેજ ઓફ મિલિટરી એન્જીનીયરીંગ</td> <td>૪.</td> <td>પૂને</td> </tr> </table> <table border="0"> <tr> <td></td> <td>A.</td> <td>B.</td> <td>C.</td> <td>D.</td> </tr> <tr> <td>(a)</td> <td>૨</td> <td>૧</td> <td>૪</td> <td>૩</td> </tr> <tr> <td>(b)</td> <td>૧</td> <td>૨</td> <td>૪</td> <td>૩</td> </tr> <tr> <td>(c)</td> <td>૧</td> <td>૨</td> <td>૩</td> <td>૪</td> </tr> <tr> <td>(d)</td> <td>૨</td> <td>૧</td> <td>૩</td> <td>૪</td> </tr> </table>	List -1	List -2	A. National Defence Academy	1. Khadakwasla	B. Indian Military Academy	2. Dehradun	C. Defense Service Staff college	3. Wellington	D. College of military engineering	4. Pune	A	B	C	D	A	B	C	D	(a) 2	1	4	3	(b) 1	2	4	3	(c) 1	2	3	4	(d) 2	1	3	4		(સૂચિ-૧)		(સૂચિ-૨)	A.	નેશનલ ડિફેન્સ એકેડમી	૧.	ખડકવાસલા	B.	ઇન્ડિયન મિલિટરી એકેડમી	૨.	દેહરાદૂન	C.	ડિફેન્સ સર્વિસ સ્ટાફ કોલેજ	૩.	વેલિંગ્ટન	D.	કોલેજ ઓફ મિલિટરી એન્જીનીયરીંગ	૪.	પૂને		A.	B.	C.	D.	(a)	૨	૧	૪	૩	(b)	૧	૨	૪	૩	(c)	૧	૨	૩	૪	(d)	૨	૧	૩	૪
List -1	List -2																																																																															
A. National Defence Academy	1. Khadakwasla																																																																															
B. Indian Military Academy	2. Dehradun																																																																															
C. Defense Service Staff college	3. Wellington																																																																															
D. College of military engineering	4. Pune																																																																															
A	B	C	D	A	B	C	D																																																																									
(a) 2	1	4	3	(b) 1	2	4	3																																																																									
(c) 1	2	3	4	(d) 2	1	3	4																																																																									
	(સૂચિ-૧)		(સૂચિ-૨)																																																																													
A.	નેશનલ ડિફેન્સ એકેડમી	૧.	ખડકવાસલા																																																																													
B.	ઇન્ડિયન મિલિટરી એકેડમી	૨.	દેહરાદૂન																																																																													
C.	ડિફેન્સ સર્વિસ સ્ટાફ કોલેજ	૩.	વેલિંગ્ટન																																																																													
D.	કોલેજ ઓફ મિલિટરી એન્જીનીયરીંગ	૪.	પૂને																																																																													
	A.	B.	C.	D.																																																																												
(a)	૨	૧	૪	૩																																																																												
(b)	૧	૨	૪	૩																																																																												
(c)	૧	૨	૩	૪																																																																												
(d)	૨	૧	૩	૪																																																																												
135	What is 'ANTRIX'? (a) A joint venture of India and France to study the atmosphere. (b) An ambitious Indian mission to explore the secrets of Universe's origin in 2016. (c) A supersonic ballistic missile to be co-produced by India and Russia. (d) A commercial branch of ISRO ANTRIX શું છે ? (a) વાયુમંડલીય અધ્યયન માટે ભારત તથા ફ્રાન્સનું સંયુક્ત ઉપક્રમ. (b) ૨૦૧૬માં અંતરિક્ષણી ઉલ્લસિના રહસ્યો શોધવા માટેનું ભારતનું મહત્વકાંક્ષી મિશન. (c) ભારત તથા રશિયાની વચ્ચે સહયોગથી બનાવવામાં આવનારી સુપરસોનિક બેલિસ્ટિક મિસાઇલ. (d) ઇસરોનો વ્યાવસાયિક એકમ.																																																																															



136	Badminton star Saina Nehwal hails from... (a) Tamil Nadu (b) Maharashtra (c) Haryana (d) Andhra Pradesh બેડમિન્ટન સ્ટાર સાઇના નેહવાલ કયા રાજ્યમાંથી આવે છે ? (a) તમિલનાડુ (b) મહારાષ્ટ્ર (c) હરિયાણા (d) આન્ધ્રપ્રદેશ
137	Which of the following is Incorrect? 1. Growth rate of literacy is higher in rural areas than urban areas. 2. Male literacy is more than 60 % in all the states and UTs. (a) only 1 (b) only 2 (c) Both 1 & 2 (d) none નીચેનામાંથી કયું/કયા વિધાન અસત્ય છે ? ૧. સાક્ષરતાનો વૃદ્ધિદર ગ્રામિણ ક્ષેત્રોમાં શહેરોની અપેક્ષાએ અધિક છે. ૨. જ્યાં જ રાજ્યો તથા કેન્દ્રશાસિત પ્રદેશોમાં પુરૂષ સાક્ષરતા ૬૦ ટકાથી વધુ છે. (a) ફક્ત-૧ (b) ફક્ત ૨ (c) ૧ તથા ૨ (d) બંનેમાંથી એકપણ નહિ
138	Which of the following is used to produce litmus paper? (a) Algae (b) Blue-green Algae (c) Mushroom (d) Lichen લીટમસ પેપર બનાવવા કોનો ઉપયોગ થાય છે ? (a) શેવાળ (b) બ્લૂ ગ્રીન આલ્ગી (c) મશરૂમ (d) લાયકેન
139	The recent oil spill in the Gulf of Mexico occurred near the U.S. coast of..... (a) Texas (b) Louisiana (c) California (d) Arizona મેક્સિકોના અખાતમાં ઠાલમાં થયેલ ઓઇલ સ્પીલની દુર્ઘટના અમેરિકાના કયા કિનારાની નજીક બની ? (a) ટેક્સાસ (b) લુઇસિયાના (c) કેલિફોર્નિયા (d) એરિઝોના
140	Which of the following is the oldest in Indian military? (a) Assam rifles (b) Rajasthan rifles (c) Gorkha regiment (d) Jat regiment ભારતીય સેનાની કઈ રૂઠડી સૌથી જૂની છે ? (a) અસમ રાઇફલ્સ (b) રાજસ્થાન રાઇફલ્સ (c) ગોરખા રેજીમેન્ટ (d) જાટ રેજીમેન્ટ
141	Which of the following substances are acidic? 1. Honey 2. Milk 3. Lemon 4. Butter-milk (a) 1, 3, 4 (b) 2, 3, 4 (c) 3, 4 (d) 1, 2, 3, 4 નીચેનામાંથી કયા પદાર્થો એસિડયુક્ત છે ? ૧. મધ ૨. દૂધ ૩. લીંબુ ૪. છાશ (a) ૧,૩,૪ (b) ૨,૩,૪ (c) ૩,૪ (d) ૧,૨,૩,૪
142	'Project GANDHI' aims at... (a) spreading the message of truth and non-violence abroad. (b) bringing back all the Gandhi memorabilia from all over the world. (c) integrated development & heritage conservation of Dandi. (d) translating the works of Gandhiji in foreign languages. પ્રોજેક્ટ GANDHI સંકળાયેલ છે..... (a) સત્ય અને અહિંસાના સંદેશને વિદેશમાં ફેલાવવા સાથે. (b) ગાંધીજીના સ્મૃતિચિન્હોને દુનિયાભરમાંથી ભારતમાં પાછા લાવવા સાથે. (c) દાંડીના સમુચિત વિકાસ અને ધરોહરના સંવર્ધન સાથે. (d) ગાંધીજીની કૃતિઓના વિદેશી ભાષાઓમાં અનુવાદ સાથે.



143	<p>Which Indian satellite's name has been changed to kalpana-1?</p> <p>(a) Metsat (b) Edusat (c) INSAT-3A (d) INSAT-3B</p> <p>કયા ભારતીય ઉપગ્રહનું નામ બદલીને કલ્પના-૧ રાખવામાં આવ્યું છે ?</p> <p>(a) મેટસેટ (b) એડુસેટ (c) ઇન્સેટ ૩-એ. (d) ઇન્સેટ ૩-બી.</p>
144	<p>Which of the following is/are correct?</p> <p>1. A new born child has more number of bones as compared to an adult person. 2. The largest organ of human body is kidney.</p> <p>(a) only 1 (b) only 2 (c) Both 1 & 2 (d) None</p> <p>નીચેનામાંથી કયું/ કયા કથન સત્ય છે ?</p> <p>૧. તાજા જન્મેલા બાળકમાં એક પુખ્ત વયની વ્યક્તિ કરતા હાડકાની સંખ્યા વધુ હોય છે. ૨. માનવ શરીરનું સૌથી મોટું અંગ મૂત્રપિંડ છે.</p> <p>(a) ફક્ત-૧ (b) ફક્ત ૨ (c) ૧ તથા ૨ (d) બંનેમાંથી એકપણ નહિ</p>
145	<p>Which of the following radioactive material caused panic in Delhi due to its accidental radiation?</p> <p>(a) Uranium (b) Plutonium (c) Thorium (d) Cobalt</p> <p>નીચેનામાંથી કયા રેડીયો એક્ટિવ પદાર્થે તાજેતરમાં તેના આકસ્મિક રેડીયેશનને કારણે દિલ્હીમાં ભય ફેલાવ્યો ?</p> <p>(a) યુરેનિયમ (b) પ્લુટોનિયમ (c) થોરિયમ (d) કોબાલ્ટ</p>
146	<p>Indicate the correct sequence of India's Nuclear energy program :</p> <p>1. Heavy water reactor 2. Thorium based reactor 3. Fast breeder test reactor</p> <p>(a) 1, 2, 3 (b) 2, 3, 1 (c) 1, 3, 2 (d) 2, 1, 3</p> <p>ભારતીય પરમાણુ ઊર્જા કાર્યક્રમના ત્રણ ચરણોનો સાચો ક્રમ દર્શાવો.</p> <p>૧. હેવી વોટર રિએક્ટર. ૨. થોરીયમ આધારિત રિએક્ટર. ૩. ફાસ્ટ બ્રિડર ટેસ્ટ રિએક્ટર.</p> <p>(a) ૧, ૨, ૩ (b) ૨, ૩, ૧ (c) ૧, ૩, ૨ (d) ૨, ૧, ૩</p>
147	<p>According to Nobel won scientist Carlwon Fitch's solution, if a honeybee dances in a pattern given below, what does it indicate to other honeybees?</p>  <p>(a) Enough food source (b) Food source is nearby (c) Food source is about to get empty (d) No food source available nearby</p> <p>નોબેલ વિજેતા વૈજ્ઞાનિક કાર્લવોન ફિચના ઉકેલ પ્રમાણે કોઈ મધમાખી નીચે દર્શાવેલ નૃત્ય પ્રકાર દ્વારા અન્ય મધમાખીને શું જણાવવા માગે છે ?</p>  <p>(a) ભોજન સ્ત્રોત પર્યાપ્ત છે. (b) ભોજન સ્ત્રોત નજીકમાં જ છે. (c) ભોજન સ્ત્રોત સમાપ્ત થવાની તૈયારીમાં છે. (d) નજીકમાં કયાંય ભોજન સ્ત્રોત ઉપલબ્ધ નથી.</p>



148 As per Indus Water Treaty -1960, Pakistan has the right to use the water of ...

- (a) Indus - Ravi - Jhelum
(b) Indus - Jhelum - Chenab
(c) Beas - Sutlej - Ravi
(d) Beas - Chenab - Sutlej

ઇન્ડસ વોટર ટ્રીટી (૧૯૬૦) મુજબ પાકિસ્તાનને કઈ નદીઓના પાણીના ઉપયોગનો અધિકાર છે ?

- (a) ઇન્ડસ, રાવિ, જેલમ
(b) ઇન્ડસ, જેલમ, ચેનાબ
(c) બિયાસ, રાત્તુજ, રાવિ
(d) બિયાસ, ચેનાબ, રાત્તુજ

149 Which of the following ports are situated on the east coast of India?

1. Kolkata
2. Tuticorin
3. Cochi
4. Paradeep

(a) 1, 2, 3 (b) 1, 2, 4 (c) 1, 3, 4 (d) 1, 2, 3, 4

નીચેનામાંથી કયા બંદરો ભારતના પૂર્વી તટ પર સ્થિત છે ?

૧. કોલકતા ૨. તુટીકોરીન
૩. કોચીન ૪. પારાદીપ

(a) ૧,૨,૩ (b) ૧,૨,૪ (c) ૧,૩,૪ (d) ૧,૨,૩,૪

150 Match the following :

Disease				Carrier					
A.	Malaria			1.	Fungus				
B.	Polio			2.	Bacteria				
C.	Tuberculosis			3.	Virus				
D.	Ringworm			4.	Parasite				
	A	B	C	D		A	B	C	D
(a)	4	3	2	1	(b)	4	3	1	2
(c)	3	4	1	2	(d)	3	4	2	1

સૂચિ-૧ ને સૂચિ-૨ સાથે જોડો.

		(રોગ)			(કારક)		
A.	મેલેરિયા			૧.	ફૂગ		
B.	પોલિયો			૨.	જીવાણુ		
C.	તબીક (ટીબી)			૩.	વિષાણુ		
D.	દાદર			૪.	પરજીવી.		
	A.		B.		C.		D.
(a)	૪		૩		૨		૧
(b)	૪		૩		૧		૨
(c)	૩		૪		૧		૨
(d)	૩		૪		૨		૧